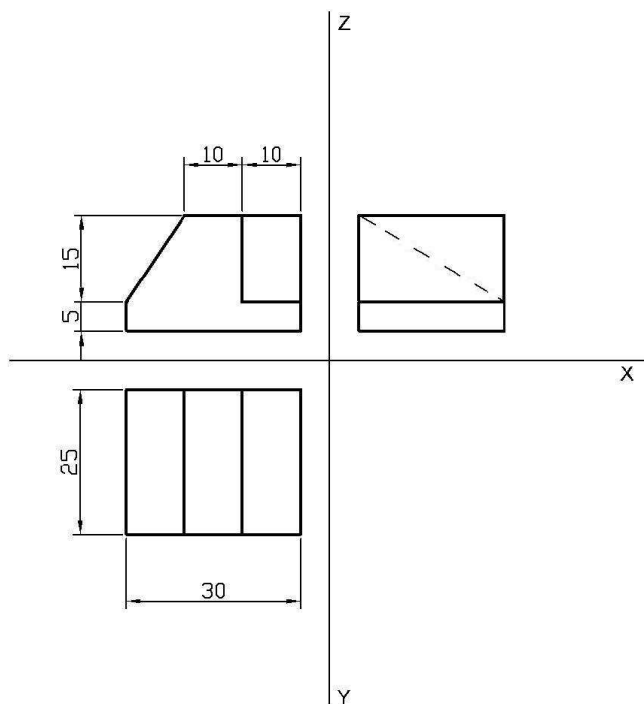


**PRUEBA DE ACCESO
A CICLOS FORMATIVOS DE GRADO SUPERIOR
JUNIO 2015**

PARTE ESPECÍFICA OPCIÓN B TECNOLOGIA
Materia: DIBUJO TÉCNICO. Duración 1 hora 15 min.

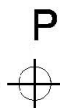
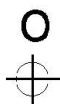
Pregunta 1

A partir de las vistas acotadas dibuje a escala 1:1 la perspectiva isométrica del objeto, sin aplicar la escala o reducción isométrica. Dibuje las partes ocultas de la figura.



Pregunta 2

Dibuje un pentágono regular inscrito en una circunferencia de radio OA, siendo A un vértice de dicho pentágono. Dibuje asimismo la figura homotética de dicho pentágono, siendo P el centro de la homotecia y $-2/3$ la razón de dicha homotecia.



CRITERIOS DE EVALUACIÓN Y CALIFICACIÓN

- Todas las cuestiones puntúan igual.
- La calificación de esta Parte o Apartado se adaptará a lo establecido en la RESOLUCIÓN de 5 de marzo de 2015, de la Dirección General de Formación Profesional y Enseñanzas de Régimen Especial, por la que se convocan pruebas de acceso a los ciclos formativos de Formación Profesional (DOCV 18-03-2015).