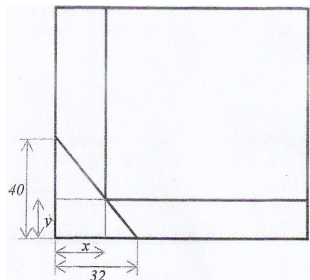


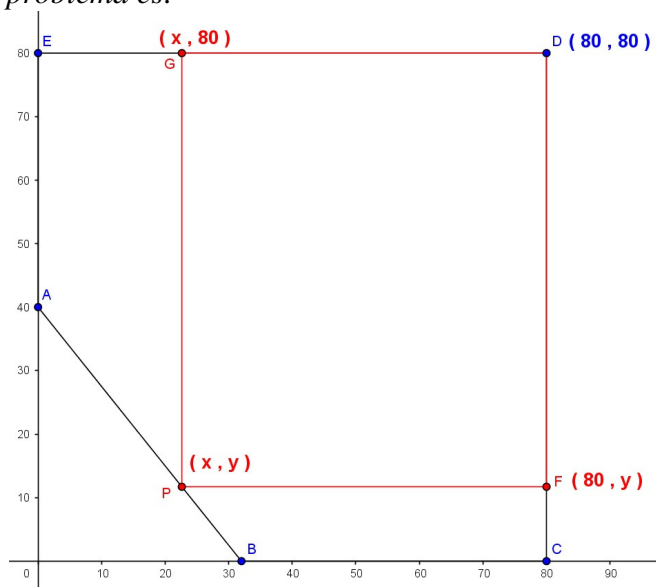
Problema 6. Un espejo plano, cuadrado, de 80 cm de lado, se ha roto por una esquina siguiendo una línea recta. El trozo desprendido tiene forma de triángulo rectángulo de catetos 32 cm y 40 cm respectivamente. En el espejo roto recortamos una pieza rectángulo R , uno de cuyos vértices es el punto (x, y) (véase la figura).

- a) Hallad el área de la pieza rectangular obtenida como función de x , cuando $0 \leq x \leq 32$. (4 puntos)
- b) Calculad las dimensiones que tendrá R para que su área sea máxima. (4 puntos)
- c) Calculad el valor de dicha área máxima. (2 puntos)



Solución:

La representación gráfica del problema es:



a) Área del rectángulo R de vértices $PFDG$

El lado PF mide $(80 - x)$ cm, el lado PG mide $(80 - y)$ cm. El área del rectángulo R quedaría en función de x e y . Para expresar el área de R en función de x , consideramos que el punto $P(x, y) \in \overline{AB}$.

Calculamos la ecuación de la recta que pasa por A y B para expresar y en función de x .

$$\begin{cases} A = (0,40) \\ B = (32,0) \end{cases} \rightarrow r: \begin{cases} \text{Punto } (0,40) \\ \text{v. director } (32, -40) \approx (4, -5) \end{cases}$$

$$\text{luego } r: \frac{x-0}{4} = \frac{y-40}{-5} \rightarrow -5x = 4y - 160 \rightarrow 4y = -5x + 160 \rightarrow y = \frac{-5x + 160}{4} = \frac{-5}{4}x + 40$$

El área de rectángulo R será:

$$A_R = (80 - x)(80 - y) = (80 - x) \left(40 + \frac{5}{4}x \right)$$

$$80 - y = 80 - \left(\frac{-5}{4}x + 40 \right) = 80 + \frac{5}{4}x - 40 = 40 + \frac{5}{4}x$$

$$\text{Solución: } A_R = (80 - x) \left(40 + \frac{5}{4}x \right) \text{ cm}^2 \quad 0 \leq x \leq 32$$

b) Valor de x / A_R es máxima.

$$A_R = (80 - x) \left(40 + \frac{5}{4}x \right) \quad 0 \leq x \leq 32$$

$$A'_R = - \left(40 + \frac{5}{4}x \right) + (80 - x) \frac{5}{4} = -40 - \frac{5}{4}x + 100 - \frac{5}{4}x = 60 - \frac{5}{2}x$$

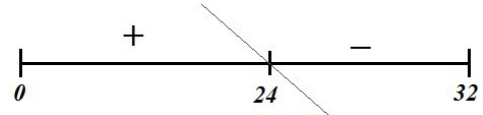
$$60 - \frac{5}{2}x = 0; \quad 120 - 5x = 0; \quad 120 = 5x; \quad x = \frac{120}{5} = 24 \in (0, 32)$$

$$A''_R = -\frac{5}{2}$$

Para $x = 24$, $A''_R = -\frac{5}{2} < 0 \rightarrow$ en $x = 24$ A_R tiene un máximo relativo

Estudiamos el signo de A'_R a la izquierda y derecha de 24.

Como A'_R es una recta de pendiente negativa cuya raíz es 24:



Luego en $x = 24$ A_R tiene un máximo relativo que es el absoluto en $[0, 32]$ ya que a la izquierda de 24 A_R es creciente y a la derecha es decreciente.

Las dimensiones de R son:

$$80 - x = 80 - 24 = 56 \quad \text{y} \quad 40 + \frac{5}{4}x = 40 + \frac{5}{4} \cdot 24 = 70$$

Solución: las dimensiones que tendrá R para que su área sea máxima son 56 cm x 70 cm.

c) El área máxima será, $A_R = 56 \cdot 70 = 3920$

Solución: el área máxima del rectángulo R mide 3920 cm^2 .

(Este ejercicio es similar al B3 de Junio de 2014)