

GEOGRAFÍA

INDICACIONES

Si contesta más preguntas de las necesarias para realizar este examen, solo se corregirán las primeras, según el orden en que aparezcan resueltas en el cuadernillo de examen.

Apartado 1, [2 puntos, 0,5 por cada definición].

Defina los **4 términos** siguientes de uso frecuente en Geografía. Si es posible, mencione algún ejemplo relacionado con ellos y referido a España (aproximadamente 100 palabras o 10 líneas para cada uno de los términos).

- Término a.** Humedal.
- Término b.** DANA/Gota fría.
- Término c.** Tasa de actividad.
- Término d.** Urbanización difusa.

Apartado 2, [1 punto].

Realice **una de las dos** tareas sobre mapas mudos que figuran a continuación:

Tarea 1, [0,2 puntos por cada una].

En el siguiente mapa mudo (Figura 1), **sitúe en el lugar adecuado e identifique** correctamente un máximo de 5 de las **principales unidades de relieve** de España.



Figura 1. Mapa Físico de la Península Ibérica.

Tarea 2, [0,2 puntos por cada una].

En el siguiente mapa mudo (Figura 2), **sitúe en el lugar adecuado e identifique** correctamente un máximo de 5 de las provincias con **mayor porcentaje de población anciana** de España.

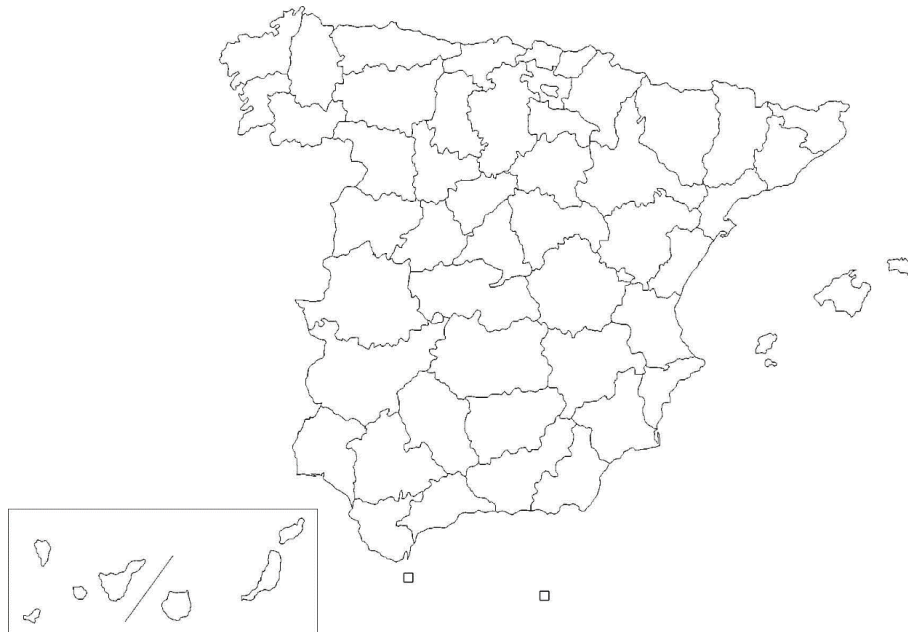


Figura 2. Mapa político de España.

Apartado 3, [4 puntos, 2 por cada imagen].

A partir de las imágenes o mapas que aparecen a continuación, **analice y comente 2 de ellos** (aproximadamente 400 palabras o 2 caras de folio por imagen).

a. El mapa del **roquedo** de la Península Ibérica (Figura 3).

I. **[0,75 puntos].**

Identifique las principales áreas y señale las rocas características de cada una de ellas.

II. **[0,50 puntos].**

Sitúe cronológicamente cada una de esas áreas, señalando la Era Geológica a la que pertenecen.

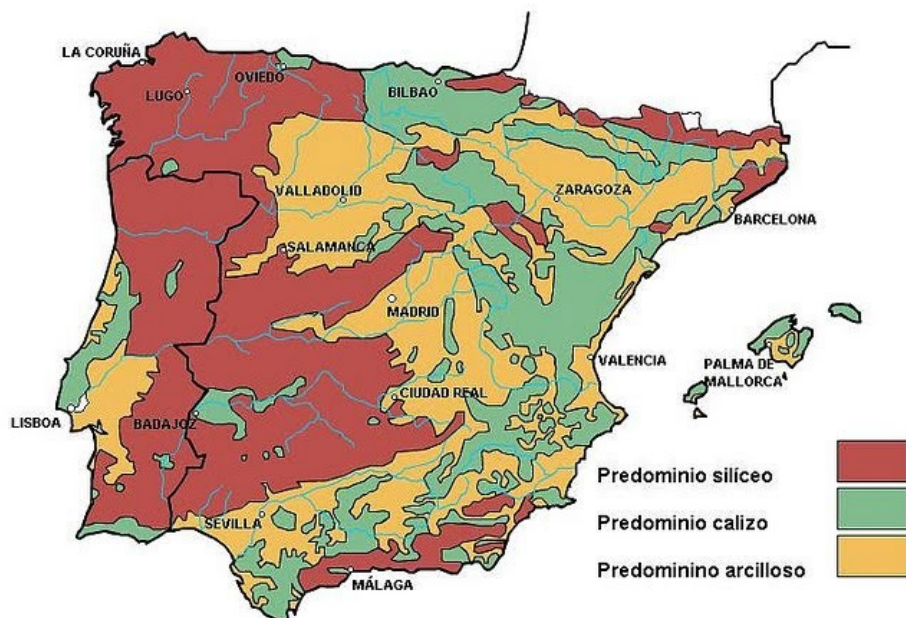


Figura 3. Mapa del roquedo de la Península Ibérica.

III. **[0,75 puntos].** Enumere las formas de modelado características de cada una de ellas.

b. El mapa del sistema urbano español (Figura 4).

- I. **[0,75 puntos]**. Identifique y describa las grandes aglomeraciones urbanas de España.
- II. **[0,50 puntos]**. Señale las principales funciones de las mismas.
- III. **[0,75 puntos]**. Explique las características principales de la jerarquía urbana española.



Figura 4. Mapa del sistema urbano español.

c. La evolución de la natalidad, mortalidad y crecimiento natural de la población española (Figura 5).

- I. **[0,75 puntos]**. Delimite temporalmente y describa las características de las fases observadas en el gráfico.
- II. **[0,75 puntos]**. Relacione estas fases con la Teoría de la Transición demográfica.
- III. **[0,50 puntos]**. Identifique y comente brevemente los fenómenos demográficos más importantes.

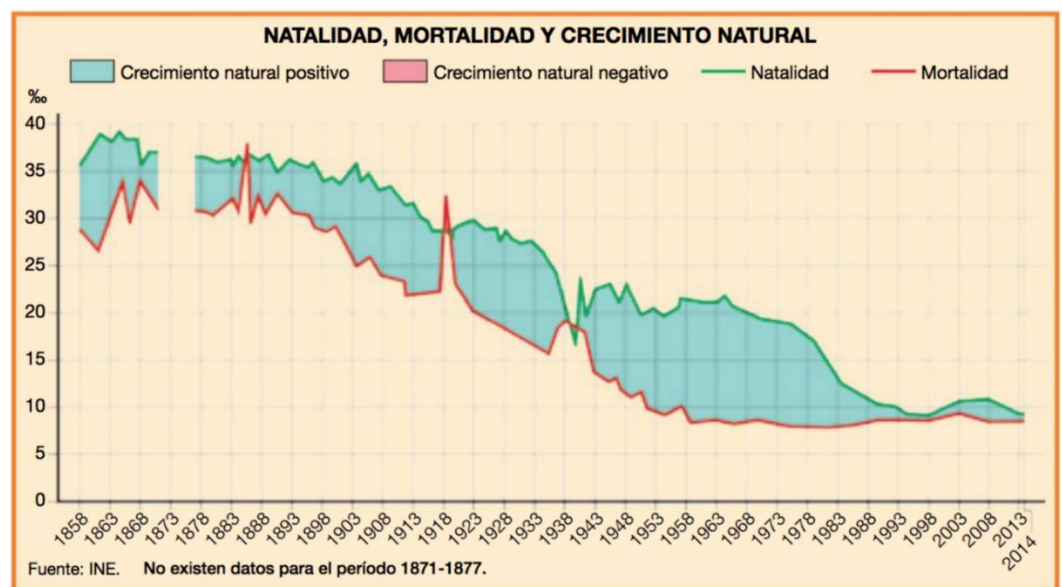


Figura 5. Gráfica de la evolución de la natalidad, mortalidad y crecimiento natural de la población española.

d. Climodiagrama correspondiente a la ciudad de **Tarifa** (Figura 6).

- I. **[0,75 puntos]**. Analice los valores de temperatura y precipitación y su variación a lo largo del año.
- II. **[0,25 puntos]**. A partir de lo señalado en el punto anterior, identifique el tipo de clima y sus rasgos fundamentales.
- III. **[1,0 puntos]**. Señale brevemente los factores que explican el clima de ese lugar.

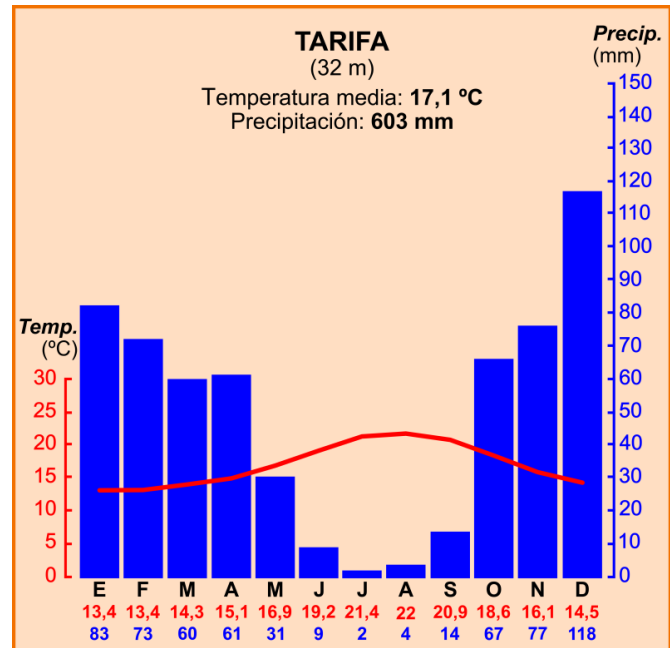


Figura 6. Climodiagrama de la ciudad de Tarifa.

Apartado 4, [3 puntos].

Desarrolle de manera sintética **uno** de estos dos temas (aproximadamente 600 palabras o 3 caras de folio):

Tema a. El medio físico de la Meseta.

- I. **[1,50 puntos]**. Describa los principales rasgos del relieve, presentando su evolución geológica y clasificando sus unidades según sus características geomorfológicas.
- II. **[1,50 puntos]**. Identifique y describa su diversidad climática, enumerando los factores y elementos característicos, los diferentes dominios vegetales y sus características, así como su diversidad hídrica, relacionando los regímenes hídricos de los cursos fluviales con las posibilidades de aprovechamiento.

Tema b. La distribución y estructura de la población española en la actualidad.

- I. **[1,50 puntos]**. La distribución y densidad de la población española.
- II. **[1,50 puntos]**. La estructura de la población por edad, sexo y actividad económica.