

INSTRUCCIONES GENERALES Y CALIFICACIÓN

Después de leer atentamente el examen, responda a las preguntas de la siguiente forma:

PREGUNTA 1.- Desarrolle, de manera sintética, el tema propuesto atendiendo a los epígrafes indicados. De manera orientativa se recomienda una extensión aproximada de página y media.

PREGUNTA 2.- Elija uno de los dos mapas propuestos, indicando las provincias numeradas y atendiendo al enunciado del mapa seleccionado. De manera orientativa se recomienda una extensión aproximada de una página.

PREGUNTA 3.- Elija entre la figura y su texto adjunto y la fotografía mostrada, atendiendo a lo indicado en el enunciado de la figura seleccionada. De manera orientativa se recomienda una extensión aproximada de una página.

PREGUNTA 4.- Defina con precisión cinco de los diez conceptos indicados. De manera orientativa se recomienda una extensión aproximada de media página.

TIEMPO Y CALIFICACIÓN: 90 minutos. Cada pregunta se calificará sobre 2,5 puntos.

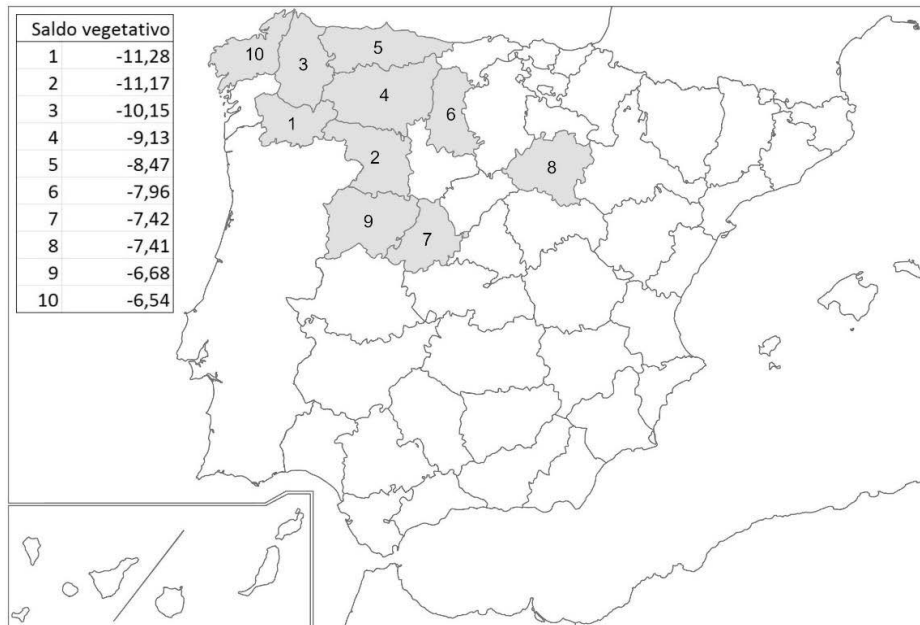
PREGUNTA 1.- Desarrolle, de manera sintética, **el TEMA** propuesto atendiendo a los apartados indicados.

Tema. Formaciones vegetales de España: Vegetación de la región atlántica.

- Factores físicos y humanos.
- Tipos de especies y características.
- Aprovechamiento económico.

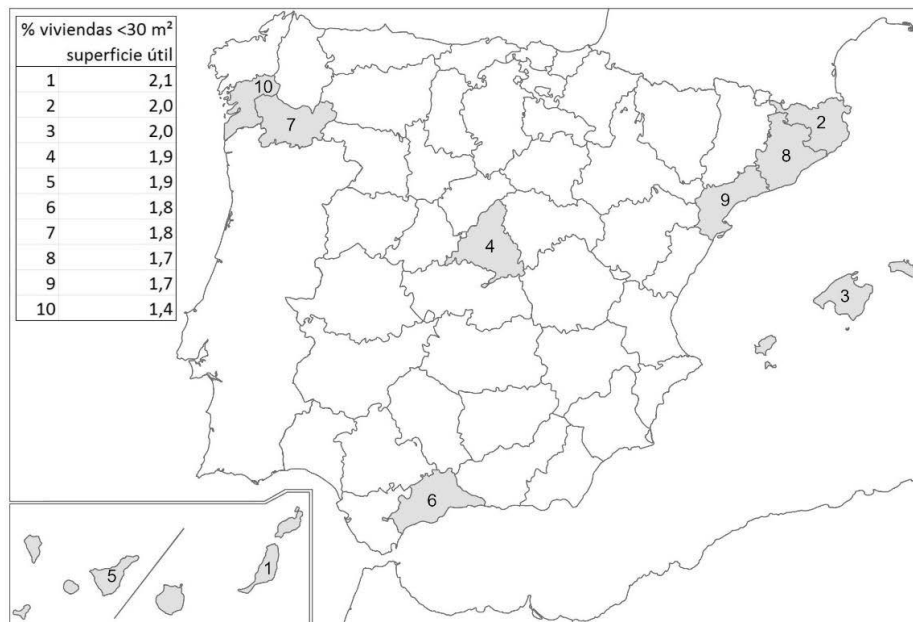
PREGUNTA 2.- Elija **uno de los dos MAPAS** propuestos y atienda a lo indicado en el enunciado correspondiente.

Mapa 1. “**Provincias con menor saldo vegetativo por cada mil habitantes (2024)**”. Indique el nombre de las provincias numeradas y señale las posibles **causas** y qué **consecuencias sociales y económicas** se derivan de la distribución de este hecho.



Fuente: Instituto Nacional de Estadística (INE)

Mapa 2. “**Provincias con mayor porcentaje de viviendas familiares con menos de 30m² de superficie útil (2021)**”. Indique el nombre de las provincias numeradas y señale las posibles **causas** y qué **consecuencias sociales y económicas** se derivan de la distribución de este hecho.



Fuente: Ministerio de Vivienda y Agenda Urbana

PREGUNTA 3.- Elija una de las dos **FIGURAS** propuestas, atendiendo a lo indicado en cada uno de los enunciados.

Figura 1. A partir del gráfico “**Evolución del peso porcentual de ocupados y del VAB (Valor Añadido Bruto) del sector agrícola en España (1995-2025)**”, y de la noticia adjunta, comente conjuntamente estos materiales, atendiendo a:

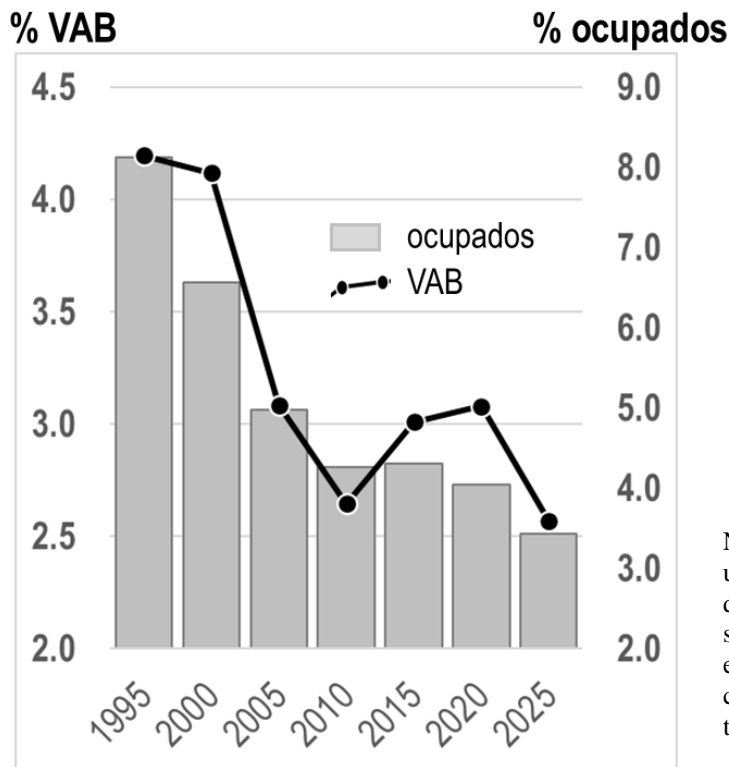
- Describa la tendencia en la evolución de las dos variables representadas desde finales del siglo XX.
- Identifique los principales problemas (económicos, demográficos, ambientales) a los que actualmente se enfrenta el sector agrícola español.
- Relacione con la noticia que se adjunta.

“España pierde 51.000 ocupados en el campo en dos años por la sequía”

La sequía que ha sufrido España en los dos últimos años ha impactado de lleno en la economía del país, con el **sector agroalimentario** como primer gran afectado. La producción de algunos de los principales alimentos se ha visto drásticamente reducida por la falta de agua, con la consiguiente **bajada de la mano de obra** asociada y **subidas de precio** (...).

En total, el **empleo en el sector agrario** ha sufrido un descenso del 6,2% entre el 2021 y el 2023, lo que supone una pérdida de 51.000 ocupados (...). El número de ocupados en las actividades agrarias ha caído en once comunidades autónomas, especialmente en Andalucía, una de las zonas con mayor peso del sector en el empleo regional y que concentra más del 30% del total nacional (...). En cuanto a la **producción de alimentos**, el impacto de la sequía es generalizado, aunque los cultivos extensivos como los pastos se encuentran entre los más perjudicados. La producción de cereales se ha reducido notablemente, con recortes de más de un 50% en el cultivo de cebada respecto a la media de los años 2017-2021.

(www.lavanguardia.com, 23 de diciembre de 2024)



Fuente: EPA (INE) y Contabilidad Nacional Anual de España (INE)

Nota: El valor añadido bruto (VAB) de un sector productivo es el indicador que mide la riqueza obtenida por dicho sector en un periodo concreto, equiparable al PIB utilizado para el conjunto de la economía de un territorio.

Figura 2. Comente la **fotografía** adjunta atendiendo, si procediese, al siguiente orden:

- Elementos del medio físico y humano;
- Indique el/los tipo/s de paisaje/s geográfico/s que muestra la foto;
- Valoración del paisaje considerando posibles riesgos, impactos, problemáticas o aspectos de preservación/conservación paisajística, así como los problemas sociales y económicos derivados.

PREGUNTA 4.- Defina con precisión **cinco** de los diez **CONCEPTOS** siguientes. Se podrá complementar la definición con un dibujo explicativo.

- Longitud geográfica
- Comarca
- Acuífero
- Deforestación
- Páramo
- Rehabilitación urbana
- Explotación agraria
- INI
- Turismo rural
- Tasa de paro

FOTOGRAFÍA-GEOGRAFÍA



Dúrcal (Granada)