


PRUEBA DE ACCESO A LA UNIVERSIDAD Y/O FASE VOLUNTARIA  
UNIBERTSITATEAN SARTZEKO PROBA ETA/EDO BORONDATEZKO FASEA

ASIGNATURA/IRAKASGAIA

**GEOGRAFÍA**

**CUESTIÓN 1ª.** Pregunta de tipo competencial a partir del comentario de textos, infografías o imágenes (fotográficas, cartográficas o gráficos) individualizados o combinados relacionados con los saberes básicos de los Bloques A y/o B. (Carácter obligatorio). 2,5 puntos.



- Identifique y describa la roca de este relieve geológico, dónde se localiza este tipo de roca y su periodo geológico. 1,5 puntos.
- Describa la forma de relieve que se ha modelado en este tipo de terreno. 1 punto.

**CUESTIÓN 2ª.** Pregunta de tipo competencial a partir del comentario de textos, infografías o imágenes (fotográficas, cartográficas o gráficos) individualizados o combinados relacionados con los saberes básicos de los Bloques A y/o C. (Carácter obligatorio). 2,5 puntos.

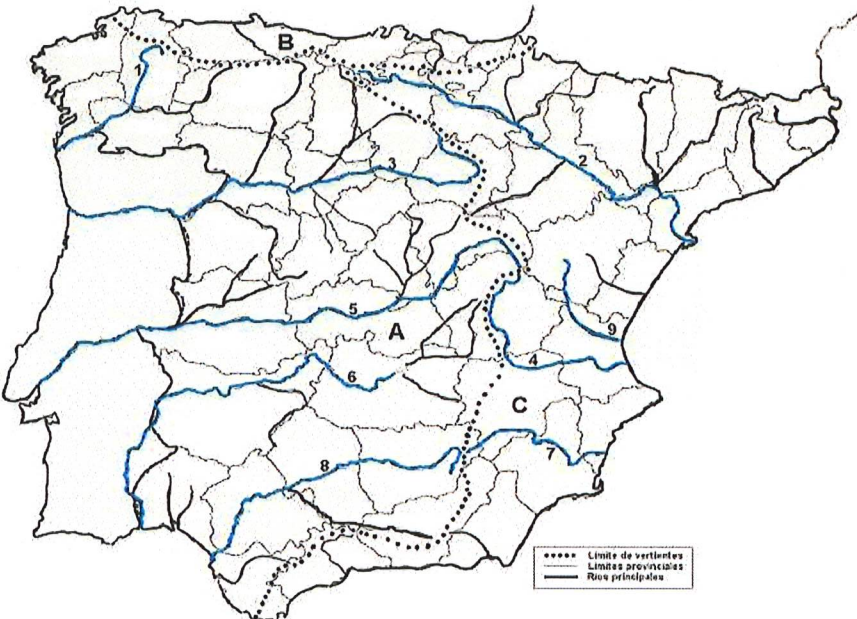


- Describa los factores físicos y humanos que se observan en la imagen. 1 punto.
- Analice el tipo de cultivo, producción, uso y características. 1, 5 puntos.

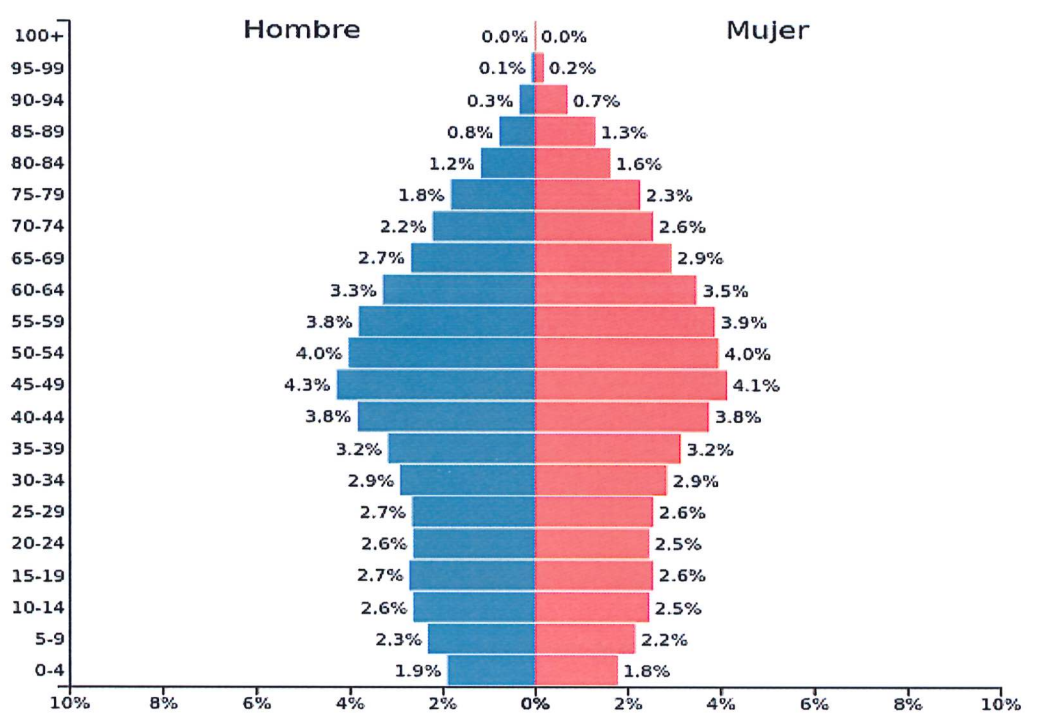
**CUESTIÓN 3ª.** Pregunta de tipo práctico (a partir de un mapa, gráfico, plano o tabla) vinculada a los saberes básicos de los Bloques B o C. (Se ofrecerán dos propuestas y **el alumnado sólo deberá dar respuesta a una de ellas**). 2,5 puntos.

**ESCOJA A o B.**

- A. Identifique las letras A, B y C con las vertientes hidrográficas españolas. Señale, además, el nombre de las provincias incluidas en la vertiente señalada con la letra B. 1,25 puntos.  
 Diga el nombre de los ríos 2, 9, 4 y 7. ¿Por qué es más extensa la vertiente fluvial atlántica que la mediterránea? 1,25 puntos.



- B. Tipo de gráfico y características de la población representada: grupos de edad y sexo. 1 punto.  
 Causas y consecuencias de la situación reflejada. 1,5 puntos.



**CUESTIÓN 4ª.** Definición de 3 términos geográficos e identificación de otros 2 a partir de su definición (Bloques A, B y/o C). **El alumnado tendrá la posibilidad de optar por una de las dos series de términos propuestas. No se pueden mezclar.** 2,5 puntos.

**ESCOJA A o B.**

**A. Definición:** Agroindustria; Área metropolitana; Red Natura 2000.

**Identificación:**

- Instrumento financiero de la Unión Europea (UE), creado con el Tratado de Maastricht (1992) para apoyar a los países menos prósperos de la UE que deben aumentar la inversión para aproximarse al nivel de desarrollo medio europeo. Invierte en proyectos medioambientales y en las redes de transporte de los países de la UE que tienen un producto interior bruto (PIB) inferior al 90 % de la media europea (especialmente en países de Europa central y oriental, en Chipre, Grecia, Malta y Portugal). España fue uno de los principales receptores de este Fondo hasta la integración de los países de la antigua Europa del Este.
- Línea imaginaria dibujada en un mapa que une todos los puntos que tienen la misma precipitación en un periodo de tiempo.

**B. Definición:** Municipio; Función urbana; Política Pesquera Común.

**Identificación:**

- Norma suprema del ordenamiento jurídico aprobada el 31 de octubre de 1978, elaborada por el poder constituyente, el pueblo, en el ejercicio de su soberanía. Establece los principios fundamentales que deben regir el orden social, político y económico de la sociedad. En este sentido, contiene, las reglas de funcionamiento básicas de una sociedad que se dota a sí misma de una norma superior. Delimita los poderes del Estado, su distribución de competencias entre las distintas administraciones que lo integran y las relaciones entre las mismas.
- Estado físico de la atmósfera en un momento preciso y en un lugar determinado. Se define por los valores de elementos como la temperatura, la humedad y la precipitación, el viento, la presión o la insolación, entre otros. La meteorología es la ciencia que estudia el tiempo atmosférico.