

PROVES D'ACCÉS A LA UNIVERSITAT

PRUEBAS DE ACCESO A LA UNIVERSIDAD

CONVOCATÒRIA: SETEMBRE 2012

CONVOCATORIA: SEPTIEMBRE 2012

GEOGRAFIA

GEOGRAFÍA

BAREM DE L'EXAMEN:

Pregunta 1^a-2,5 punts; pregunta 2^a-2,5 punts; pregunta 3^a-2,5 punts; pregunta 4^a-2,5 punts

BAREMO DEL EXAMEN:

Pregunta 1^a-2,5 puntos; pregunta 2^a-2,5 puntos; pregunta 3^a-2,5 puntos; pregunta 4^a-2,5 puntos

EJERCICIO 1

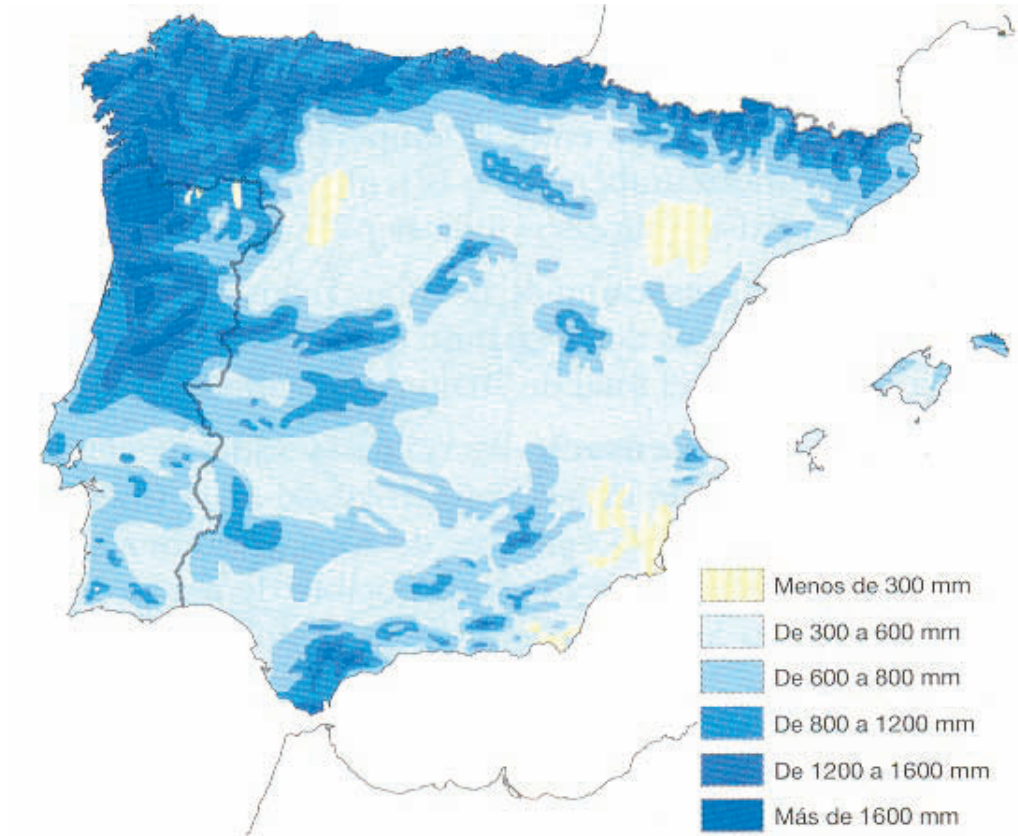
1. Localice en el mapa adjunto las principales unidades del relieve exteriores a la Meseta.
2. Con ayuda del mapa, señale los rasgos básicos del relieve peninsular. Explique con mayor detalle las formaciones montañosas en la Meseta.
3. Describa cómo la distribución de las unidades del relieve afecta al trazado de los ríos españoles en las distintas vertientes.
4. Con la ayuda del mapa del Documento 1 y del mapa anexo, explique cómo la configuración del relieve peninsular influye en la distribución de las precipitaciones.

EXERCICI 1

1. Localitzeu en el mapa adjunt les principals unitats del relleu exteriors a la Meseta.
2. Amb ajuda del mapa, assenyaleu els trets bàsics del relleu peninsular. Expliqueu amb major detall les formacions muntanyoses a la Meseta.
3. Descriviu com la distribució de les unitats del relleu afecta el traçat dels rius espanyols en els distints vessants.
4. Amb l'ajuda del mapa del document 1 i del mapa annex, expliqueu com la configuració del relleu peninsular influeix en la distribució de les precipitacions.

DOCUMENT 1 / DOCUMENTO 1

Mapa de precipitaciones de la Península Ibérica i Balears / *Mapa de precipitaciones de la Península Ibérica y Baleares*



Font/Fuente: Muñoz Delgado M^a C. (2001): Geografía 2º Bachillerato, Anaya, Madrid

PROVES D'ACCÉS A LA UNIVERSITAT

PRUEBAS DE ACCESO A LA UNIVERSIDAD

CONVOCATÒRIA: SETEMBRE 2012

CONVOCATORIA: SEPTIEMBRE 2012

GEOGRAFIA

GEOGRAFÍA

BAREM DE L'EXAMEN:

Pregunta 1^a-2,5 punts; pregunta 2^a-2,5 punts; pregunta 3^a-2,5 punts; pregunta 4^a-2,5 punts

BAREMO DEL EXAMEN:

Pregunta 1^a-2,5 puntos; pregunta 2^a-2,5 puntos; pregunta 3^a-2,5 puntos; pregunta 4^a-2,5 puntos

EJERCICIO 2

1. Con los datos del Documento 1 elabore un gráfico lineal referido al empleo en España.
2. Observe el gráfico resultante y explique el peso y la evolución de los distintos sectores.
3. Con ayuda de los mapas del Documento 2, indique las principales áreas industriales de España y sus principales características diferenciales.
4. Explique los problemas actuales de la industria española.

EXERCICI 2

1. Amb les dades del Document 1 elaboreu un gràfic lineal referit a l'ocupació a Espanya.
2. Observeu el gràfic resultant i expliqueu el pes i l'evolució dels distints sectors.
3. Amb ajuda dels mapes del Document 2, indiqueu les principals àrees industrials d'Espanya i les seues principals característiques diferencials.
4. Expliqueu els problemes actuals de la indústria espanyola.

DOCUMENT 1 / DOCUMENTO 1

Distribució per sectors de la població ocupada (%). Espanya / *Distribución por sectores de la población ocupada (%). España*

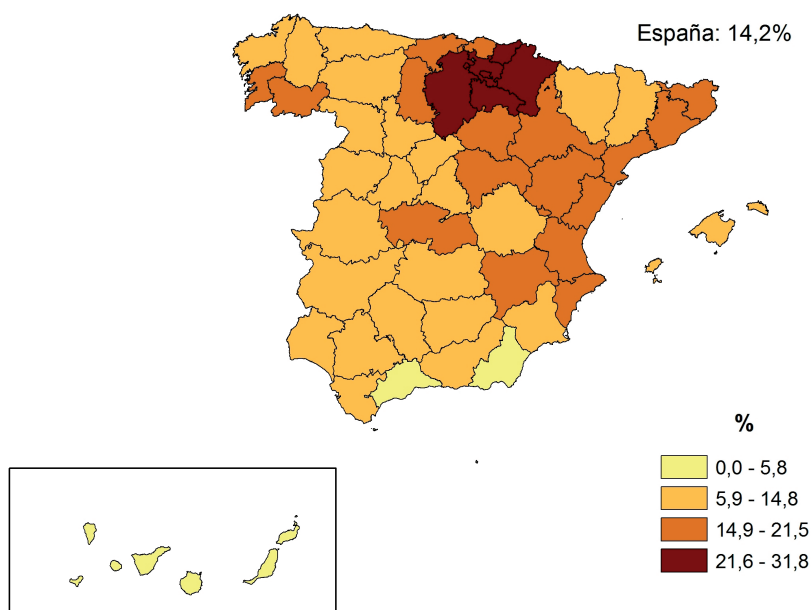
Sector Económico	Año					
	2000	2002	2004	2006	2008	2010
Primario	6,1	5,4	5,0	4,3	3,9	4,4
Industria	19,7	19,0	17,5	16,5	15,7	14,2
Construcción	11,4	12,0	12,9	13,3	11,9	8,5
Terciario	62,8	63,7	64,6	65,9	68,6	72,8

Font/Fuente: Encuesta de la Población Activa del INE

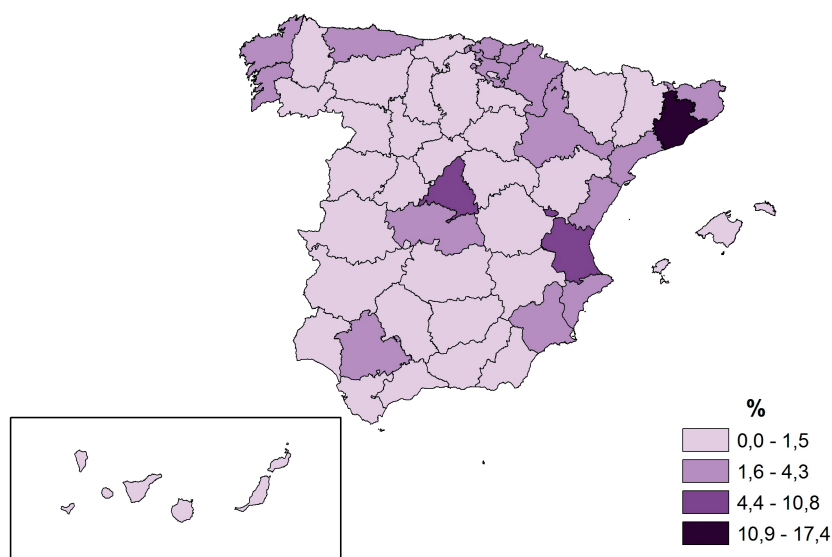
DOCUMENT 2 / DOCUMENTO 2

Distribució provincial de la població ocupada en la indústria el 2010
Distribución provincial de la población ocupada en la industria en 2010

Distribució provincial de la població ocupada en la indústria sobre el total de població ocupada en cada província
Distribución provincial de la población ocupada en la industria sobre el total de población ocupada en cada provincia



Distribució provincial de la població ocupada en la indústria sobre el conjunt de la població ocupada en la indústria a Espanya
Distribución provincial de la población ocupada en la industria sobre el conjunto de la población ocupada en la industria en España



Elaborat a partir de l'Enquesta de Població Activa. INE. Nota: No s'inclou la construcció.

Elaborado a partir de la Encuesta de Población Activa. INE. Nota: No se incluye la construcción.

PROVES D'ACCÉS A LA UNIVERSITAT

PRUEBAS DE ACCESO A LA UNIVERSIDAD

CONVOCATÒRIA: SETEMBRE 2012

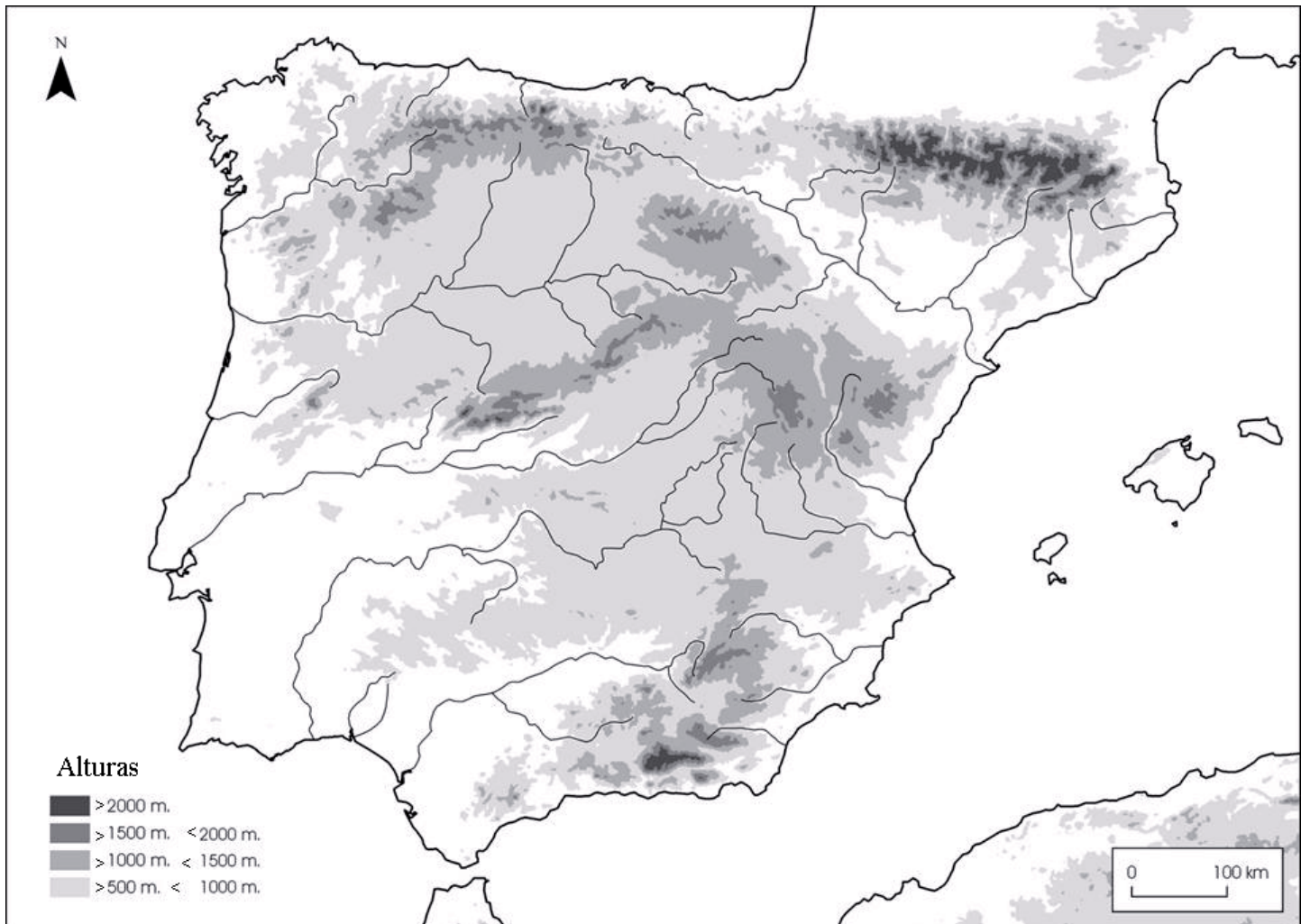
CONVOCATORIA: SEPTIEMBRE 2012

GEOGRAFIA

GEOGRAFÍA

Etiqueta de l'estudiant / Etiqueta del estudiante

MAPA ANNEX / MAPA ANEXO



PROVES D'ACCÉS A LA UNIVERSITAT

PRUEBAS DE ACCESO A LA UNIVERSIDAD

CONVOCATÒRIA: SETEMBRE 2012

CONVOCATORIA: SEPTIEMBRE 2012

GEOGRAFIA

GEOGRAFÍA

Etiqueta de l'estudiant / Etiqueta del estudiante

PAPER ANNEX/ PAPEL ANEXO

