

PROVES D'ACCÉS A LA UNIVERSITAT

PRUEBAS DE ACCESO A LA UNIVERSIDAD

CONVOCATÒRIA: JUNY 2013	CONVOCATORIA: JUNIO 2013
GEOGRAFIA	GEOGRAFÍA

BAREM DE L'EXAMEN:

Pregunta 1^a-2 punts; pregunta 2^a-3 punts; pregunta 3^a-2 punts; pregunta 4^a-3 punts

BAREMO DEL EXAMEN:

Pregunta 1^a-2 puntos; pregunta 2^a-3 puntos; pregunta 3^a-2 puntos; pregunta 4^a-3 puntos

EJERCICIO 1

1. Observe las fotos incluidas en el Documento 1 y describa los tipos de vegetación que muestran y en qué parte de España las podemos encontrar.
2. Señale los climas presentados en los climogramas del Documento 2 y sus rasgos principales.
3. Indique de forma razonada qué climas del Documento 2 corresponden a los tipos de vegetación que aparecen en las fotografías del Documento 1.
4. Describa los factores ambientales que influyen en la distribución de vegetación en España.

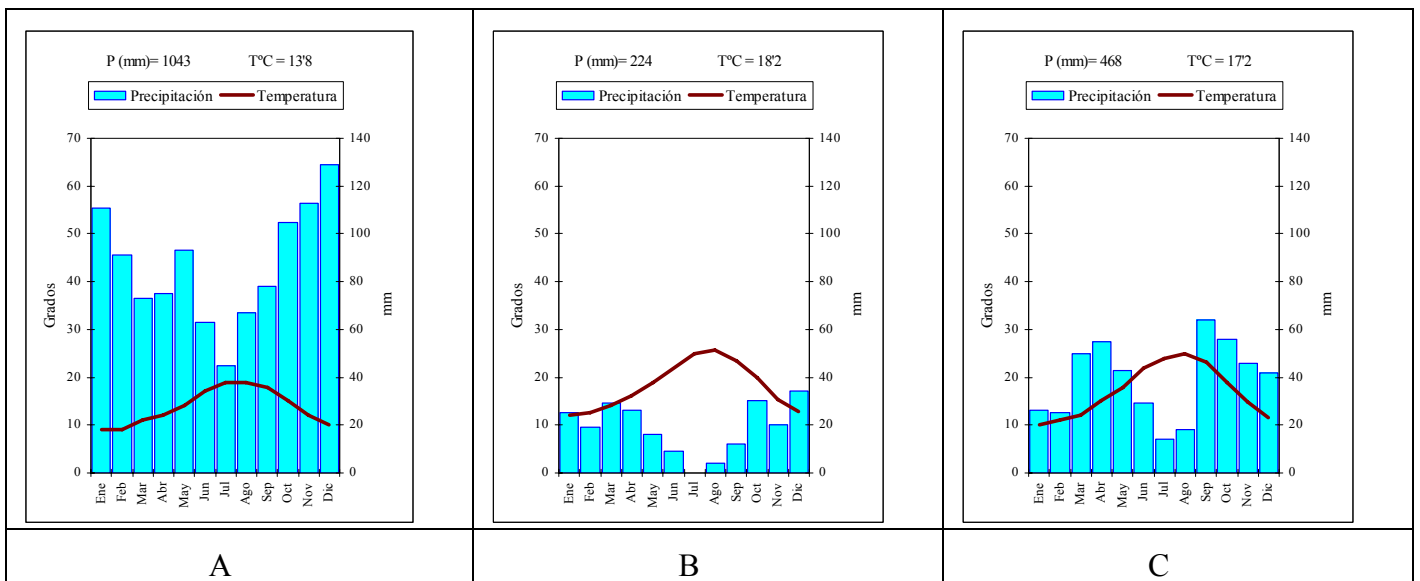
EXERCICI 1

1. Observeu les fotos incloses en el Document 1 i describiu els tipus de vegetació que mostren i en quina part d'Espanya els podem trobar.
2. Assenyaleu els climes presentats en els climogrames del Document 2 i els seus trets principals.
3. Indiqueu de forma raonada quins climes del Document 2 corresponen als tipus de vegetació que apareixen en les fotografies del Document 1.
4. Describiu els factors ambientals que influeixen en la distribució de vegetació a Espanya.

DOCUMENT 1 / DOCUMENTO 1



DOCUMENT 2 / DOCUMENTO 2



Font/Fuente: AEMET.

PROVES D'ACCÉS A LA UNIVERSITAT

PRUEBAS DE ACCESO A LA UNIVERSIDAD

CONVOCATÒRIA: JUNY 2013

CONVOCATORIA: JUNIO 2013

GEOGRAFIA

GEOGRAFÍA

BAREM DE L'EXAMEN:

Pregunta 1^a-2,5 punts; pregunta 2^a-2 punts; pregunta 3^a-2,5 punts; pregunta 4^a-3 punts

BAREMO DEL EXAMEN:

Pregunta 1^a-2,5 puntos; pregunta 2^a-2 puntos; pregunta 3^a-2,5 puntos; pregunta 4^a-3 puntos

EJERCICIO 2

1. A partir del Documento 1, elabore una gráfica lineal con los datos sobre el total de turistas entrados en España entre 2001 y 2010, diferenciando también los procedentes de Europa de quienes lo hicieron desde el resto del mundo. Comente el gráfico resultante utilizando el conjunto de datos del documento.
2. Describa las diferencias entre los mapas del Documento 2.
3. Explique las diferencias provinciales entre ambos mapas a partir de modelos turísticos e impacto económico.
4. Partiendo de los materiales analizados y de sus conocimientos en la materia, explique la importancia del turismo para la economía y la sociedad española, argumentando los puntos fuertes y las debilidades de nuestro sector turístico.

EXERCICI 2

1. A partir del Document 1, elaboreu un gràfic lineal amb les dades sobre el total de turistes que van entrar a Espanya entre 2001 i 2010, diferenciant també els procedents d'Europa dels que ho van fer des de la resta del món. Comenteu el gràfic resultant utilitzant el conjunt de dades del document.
2. Descriviu les diferències entre els mapes del Document 2.
3. Expliqueu les diferències provincials entre ambdós mapes a partir de models turístics i impacte econòmic.
4. Partint dels materials analitzats i dels vostres coneixements en la matèria, expliqueu la importància del turisme per a l'economia i la societat espanyola, argumentant els punts forts i les debilitats del nostre sector turístic.

DOCUMENT 1 / DOCUMENTO 1

ESPAÑA, 2001-2010: ENTRADA DE TURISTES PER PAÍS DE RESIDÈNCIA

(En milions de persones)

ESPAÑA, 2001-2010: ENTRADA DE TURISTAS POR PAÍS DE RESIDENCIA

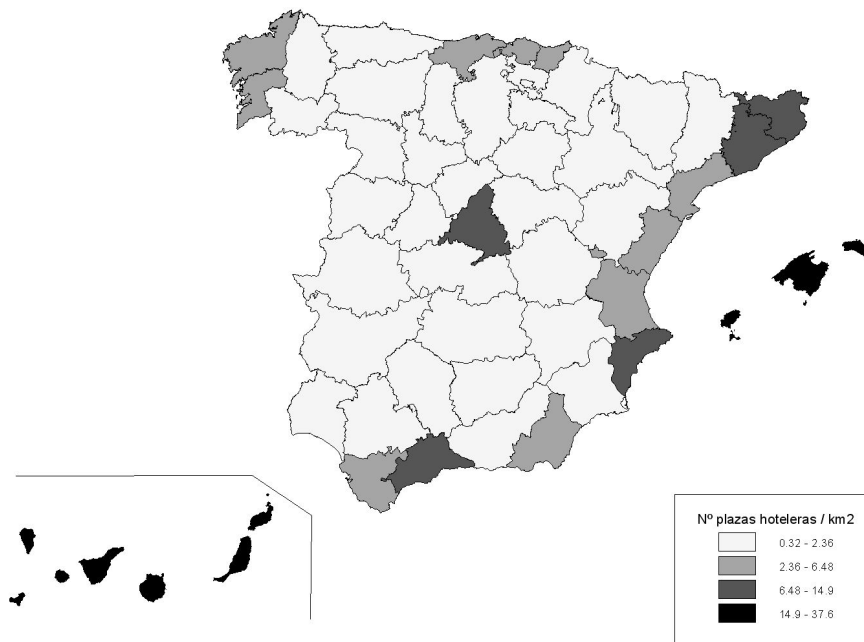
(En millones de personas)

PROCEDENCIA/Países	Año 2001	Año 2004	Año 2007	Año 2010
TOTAL	48,57	52,43	58,67	52,68
EUROPA	45,02	49,24	54,93	47,39
Reino Unido	13,31	15,63	16,30	12,43
Alemania	10,19	9,54	10,08	8,81
Francia	6,79	7,74	9,00	8,14
Italia	2,44	2,80	3,62	3,49
RESTO DEL MUNDO	3,55	3,19	3,74	5,29

Font/Fuente: Instituto de Estudios Turísticos

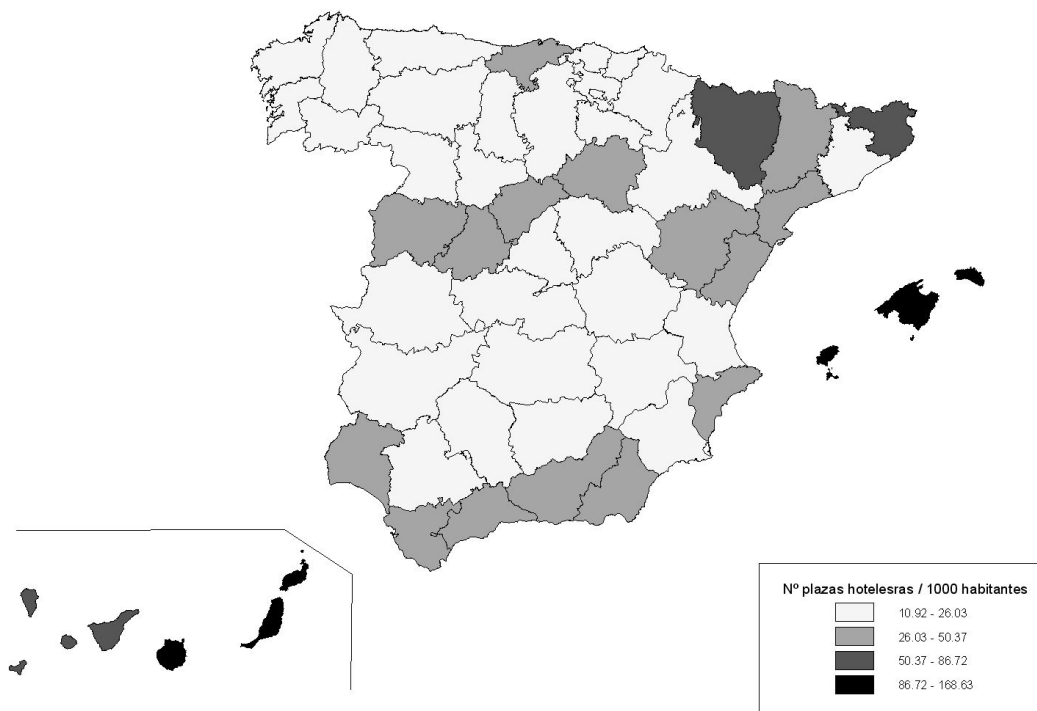
DOCUMENT 2 / DOCUMENTO 2

Places en establiments hotelers per km²/Plazas en establecimientos hoteleros por km²



Fuente / Font: Instituto de Estudios Turísticos

Plazas en establecimientos hoteleros por cada 1000 habitantes/Plazas en establiments hotelers per cada 1.000 habitants



Fuente / Font: Instituto de Estudios Turísticos

PROVES D'ACCÉS A LA UNIVERSITAT

PRUEBAS DE ACCESO A LA UNIVERSIDAD

CONVOCATÒRIA: JUNY 2013

CONVOCATORIA: JUNIO 2013

GEOGRAFIA

GEOGRAFÍA

Etiqueta de l'estudiant / Etiqueta del estudiante

PAPER ANNEX/ PAPEL ANEXO

