

PROVES D'ACCÉS A LA UNIVERSITAT

PRUEBAS DE ACCESO A LA UNIVERSIDAD

CONVOCATÒRIA: JUNY 2015	CONVOCATORIA: JUNIO 2015
GEOGRAFIA	GEOGRAFÍA

BAREM DE L'EXAMEN:

Pregunta 1^a-2 punts; pregunta 2^a-2,5 punts; pregunta 3^a-3 punts; pregunta 4^a-2,5 punts

BAREMO DEL EXAMEN:

Pregunta 1^a-2 puntos; pregunta 2^a-2,5 puntos; pregunta 3^a-3 puntos; pregunta 4^a-2,5 puntos

EJERCICIO 1

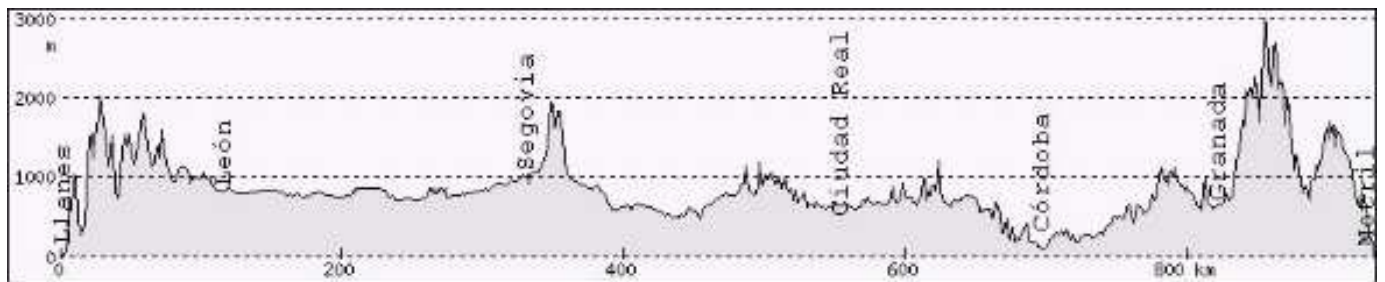
1. Localice en el mapa adjunto los siguientes ríos y unidades del relieve: Segre, Sil, Turia, Duero, Genil, Submeseta Sur, Cordillera Penibética, Cordillera Subbética, Macizo Galaico, Montes de León.
2. Con la ayuda del mapa anexo y del documento 1, señale las unidades en que se dividen las Cordilleras Béticas y las diferencias entre la Submeseta Norte y la Submeseta Sur.
3. Describa las unidades del relieve y sus características que pueda deducir a partir del perfil topográfico del documento 1.
4. Con ayuda del mapa anexo y del documento 1, señale los rasgos básicos del relieve peninsular.

EXERCICI 1

1. Localitzeu en el mapa adjunt els següents rius i unitats del relleu: Segre, Sil, Túria, Duero, Genil, subaltilà sud, serralada Penibètica, serralades Subbètiques, massís Galaic, Montes de León.
2. Amb l'ajuda del mapa annex i del document 1, assenyalen les unitats en què es divideixen les serralades Bètiques i les diferències entre el subaltilà nord i el subaltilà sud.
3. Descriviu les unitats del relleu i les seues característiques que puguen deduir a partir del perfil topogràfic del document 1.
4. Amb ajuda del mapa annex i del document 1, assenyalen els trets bàsics del relleu peninsular.

DOCUMENT 1 / DOCUMENTO 1

Perfil topogràfic entre les localitats de Llanes (Astúries) i Motril (Granada).
Perfil topográfico entre las localidades de Llanes (Asturias) y Motril (Granada).



Font/Fuente: <http://www.heywhatsthat.com/profiler.html>

PROVES D'ACCÉS A LA UNIVERSITAT

PRUEBAS DE ACCESO A LA UNIVERSIDAD

CONVOCATÒRIA: JUNY 2015	CONVOCATORIA: JUNIO 2015
GEOGRAFIA	GEOGRAFÍA

BAREM DE L'EXAMEN:

Pregunta 1^a-2,5 punts; pregunta 2^a-2,5 punts; pregunta 3^a-2,5 punts; pregunta 4^a-2,5 punts

BAREMO DEL EXAMEN:

Pregunta 1^a-2,5 puntos; pregunta 2^a-2,5 puntos; pregunta 3^a-2,5 puntos; pregunta 4^a-2,5 puntos

EJERCICIO 2

1. A partir del documento 1, elabore una gràfica lineal sobre la evolució diferencial del paro en Espanya, entre los hombres y las mujeres. Comente el gráfico resultante.
2. Describa las diferencias territoriales del paro en Espanya a partir del documento 2 y aporte algunas razones que pudieran explicarlas.
3. Explique cómo podemos relacionar la tasa de paro con los siguientes aspectos demográficos: a) migraciones; b) tasas de natalidad; c) envejecimiento de la población.
4. A partir de los datos anteriores y de sus conocimientos en la materia, explique problemas estructurales básicos de la economía española.

EXERCICI 2

1. A partir del document 1, elaboreu un gràfic lineal sobre l'evolució diferencial de la desocupació a Espanya, entre els homes i les dones. Comenteu el gràfic resultant.
2. Descriviu les diferències territorials de la desocupació a Espanya a partir del document 2 i aporteu algunes raons que puguen explicar-les.
3. Expliqueu com podem relacionar la taxa de desocupació amb els aspectes demogràfics següents: a) migracions; b) taxes de natalitat; c) envelliment de la població.
4. A partir de les dades anteriors i dels vostres coneixements en la matèria, expliqueu problemes estructurals bàsics de l'economia espanyola.

DOCUMENT 1 / DOCUMENTO 1

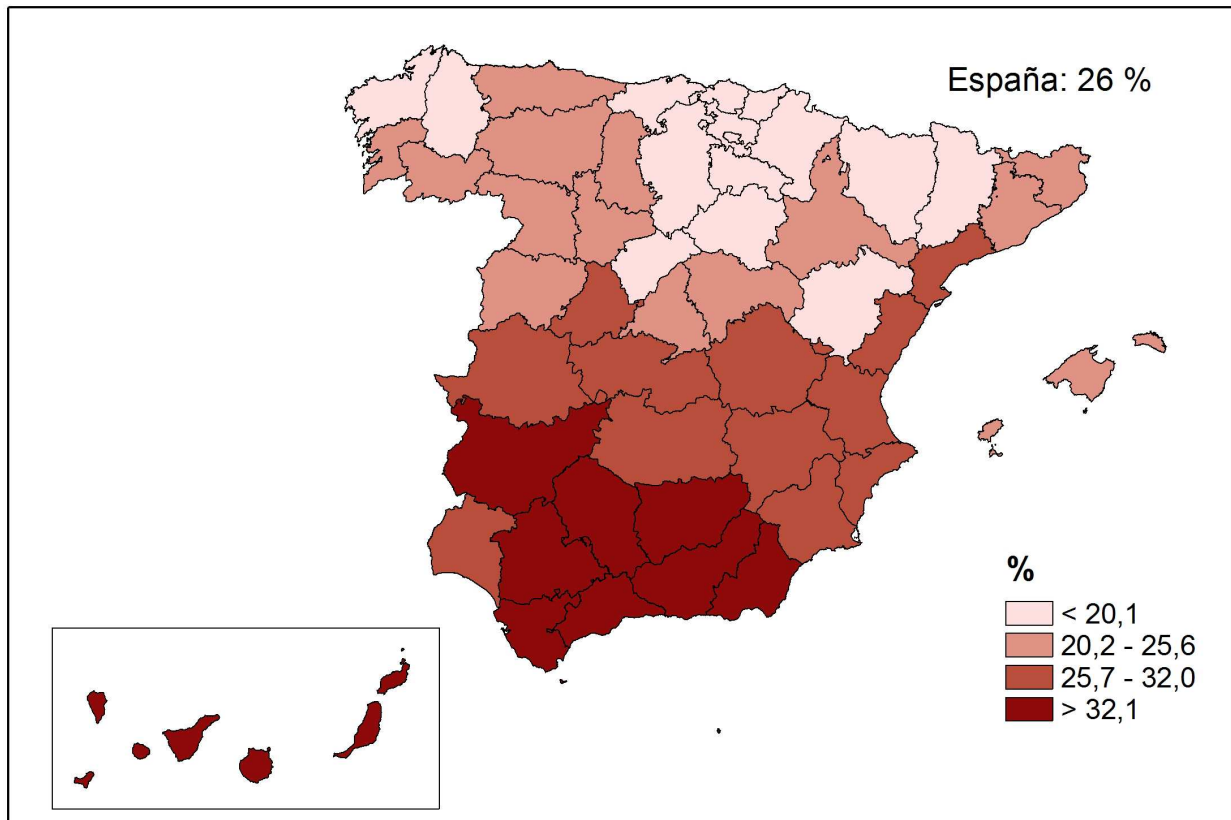
Espanya: evolució de la taxa de desocupació per sexe, 2005-2013 (percentatge sobre el total d'actius).
España: evolución de la tasa de paro por sexo, 2005-2013 (porcentaje sobre el total de activos).

	2005	2006	2007	2008	2009	2010	2011	2012	2013
Varones	6,7	6,1	6,93	13,0	18,6	19,8	22,3	25,4	25,0
Mujeres	11,5	11,2	10,8	14,8	18,8	20,5	22,9	26,2	26,5

Font/Fuente: Encuesta de la población activa. Dades del quart trimestre de cada any / Encuesta de la población activa. Datos del 4º trimestre de cada año.

DOCUMENT 2 / DOCUMENTO 2

Espanya, 2013: taxa de desocupació de la població de 16 a 64 anys. Distribució provincial.
España, 2013: tasa de paro de la población de 16 a 64 años. Distribución provincial



Font/Fuente: Encuesta de la población activa. Dades del quart trimestre de cada any / Encuesta de la población activa. Datos del 4º trimestre de cada año.

PROVES D'ACCÉS A LA UNIVERSITAT

PRUEBAS DE ACCESO A LA UNIVERSIDAD

CONVOCATÒRIA: JUNY 2015

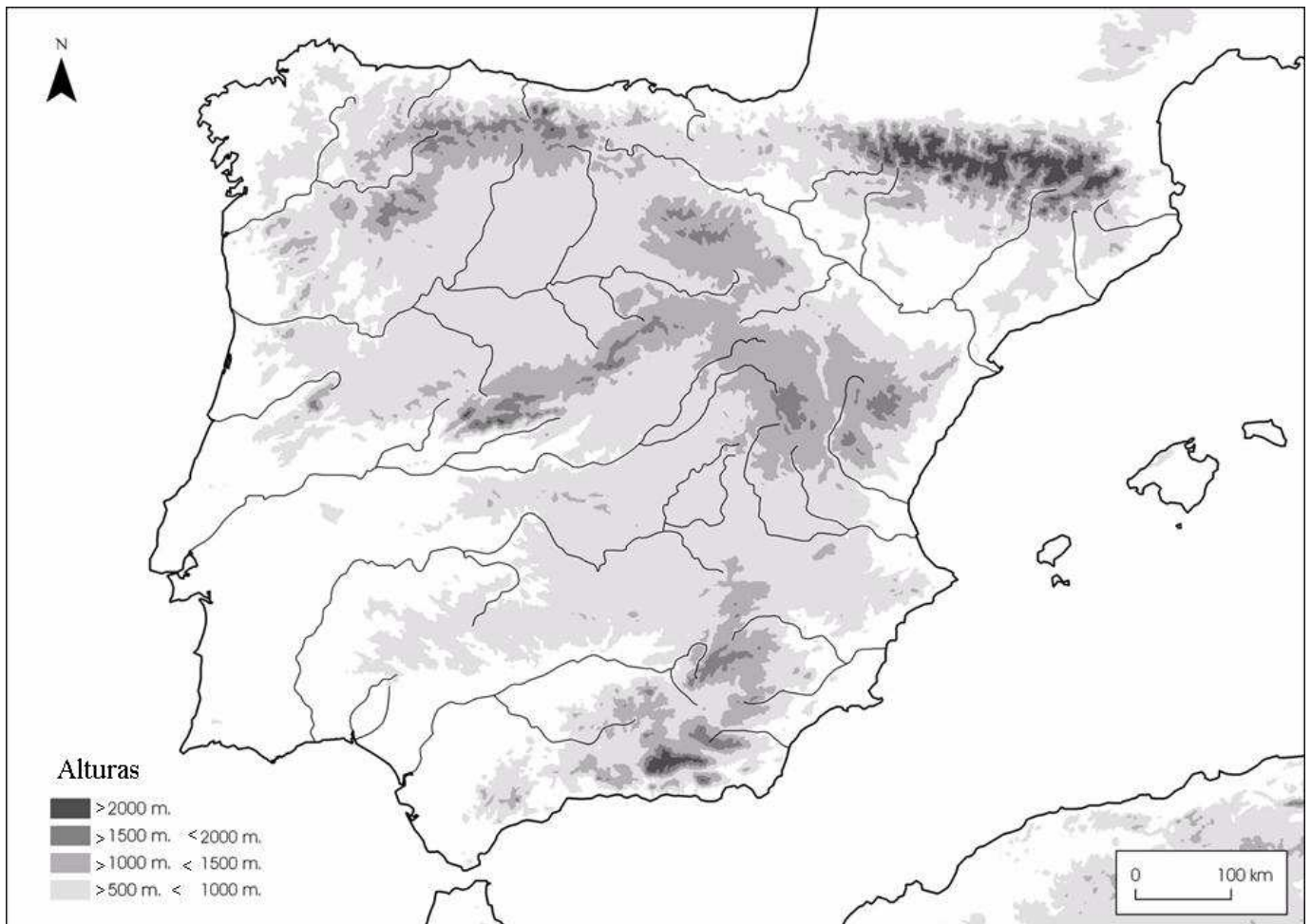
CONVOCATORIA: JUNIO 2015

GEOGRAFIA

GEOGRAFÍA

Etiqueta de l'estudiant / Etiqueta del estudiante

MAPA ANNEX / MAPA ANEXO



PROVES D'ACCÉS A LA UNIVERSITAT

PRUEBAS DE ACCESO A LA UNIVERSIDAD

CONVOCATÒRIA: JUNY 2015	CONVOCATORIA: JUNIO 2015
GEOGRAFIA	GEOGRAFÍA

Etiqueta de l'estudiant / Etiqueta del estudiante

PAPER ANNEX/ PAPEL ANEXO

