

PROVES D'ACCÉS A FACULTATS, ESCOLES TÈCNiques SUPERIORS I COL·LEGIS UNIVERSITARIS
PRUEBAS DE ACCESO A FACULTADES, ESCUELAS TÉCNICAS SUPERIORES Y COLEGIOS UNIVERSITARIOS

CONVOCATÒRIA DE JUNY 2007

CONVOCATORIA DE JUNIO 2007

MODALITAT DEL BATXILLERAT (LOGSE): **d'Humanitats i Ciències Socials**
MODALIDAD DEL BACHILLERATO (LOGSE): de Humanidades y Ciencias Sociales

IMPORTANT / IMPORTANTE

2n Exercici 2º Ejercicio	GEOGRAFIA GEOGRAFÍA	Obligatòria en la via de Ciències Socials i optativa en la d'Humanitats Obligatoria en la vía de Ciencias Sociales y optativa en la de Humanidades	90 minuts 90 minutos
Barem: / Baremo: _____			
Pregunta 1ª-2 punts; pregunta 2ª-2'5 punts; pregunta 3ª-3 punts; pregunta 4ª-2'5 punts			
<i>Pregunta 1ª-2 puntos; pregunta 2ª-2'5 puntos; pregunta 3ª-3 puntos; pregunta 4ª-2'5 puntos</i>			

EJERCICIO 1

1. A partir de los siguientes datos climáticos construya los climogramas de Gaussen de las dos estaciones propuestas.
2. Indique a qué ciudad de entre las citadas a continuación corresponden los datos meteorológicos del documento 1 y argumente su decisión: San Sebastián, León, Albacete, Valencia, Almería. A modo de ayuda, en el documento 2 se muestran los mapas de precipitación media (2A) y de temperaturas medias (2B) en la España peninsular y las Islas Baleares
3. En el mapa 2A aparecen tres puntos. Indique a qué tipo de clima corresponden y describa sus formaciones vegetales características.
4. Redacte en un INFORME **los principales problemas medioambientales a los que están sometidas las formaciones vegetales asociadas al clima mediterráneo.**

EXERCICI 1

1. A partir de les següents dades climàtiques, construïu els climogrames de Gaussen de les dues estacions proposades.
2. Indiqueu a quina ciutat entre les citades a continuació corresponen les dades meteorològiques del document 1 i argumenteu la vostra decisió: Sant Sebastià, Lleó, Albacete, València, Almeria. Com a ajuda, en el document 2 es mostren els mapes de precipitació mitjana (2A) i de temperatures mitjanes (2B) a l'Espanya peninsular i les Illes Balears
3. En el mapa 2A apareixen tres punts. Indiqueu a quin tipus de clima corresponen i describiu-ne les formacions vegetals característiques.
4. Redacteu en un INFORME **els principals problemes mediambientals a què estan sotmeses les formacions vegetals associades al clima mediterrani.**

PROVES D'ACCÉS A FACULTATS, ESCOLES TÈCNIQUES SUPERIORS I COL·LEGIS UNIVERSITARIS
PRUEBAS DE ACCESO A FACULTADES, ESCUELAS TÉCNICAS SUPERIORES Y COLEGIOS UNIVERSITARIOS

CONVOCATÒRIA DE JUNY 2007

CONVOCATORIA DE JUNIO 2007

MODALITAT DEL BATXILLERAT (LOGSE):
MODALIDAD DEL BACHILLERATO (LOGSE):

d'Humanitats i Ciències Socials
de Humanidades y Ciencias Sociales

IMPORTANT / IMPORTANTE

2n Exercici 2º Ejercicio	GEOGRAFIA GEOGRAFÍA	Obligatòria en la via de Ciències Socials i optativa en la d'Humanitats Obligatoria en la vía de Ciencias Sociales y optativa en la de Humanidades	90 minuts 90 minutos
Barem: / Baremo: _____			

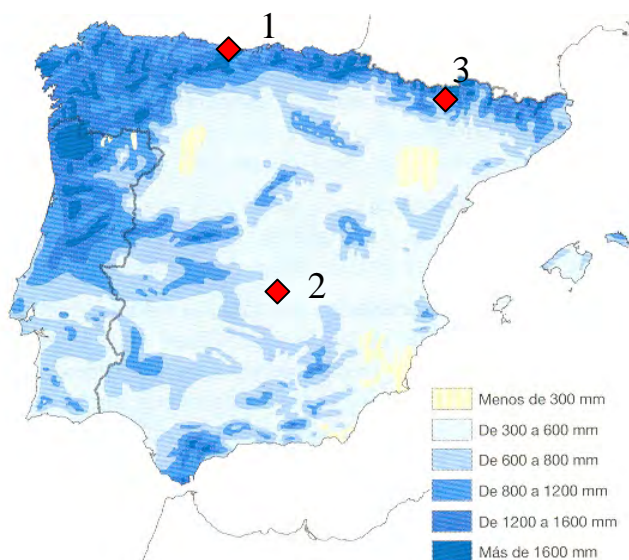
DOCUMENT 1 / DOCUMENTO 1

MES	ESTACIÓN A		ESTACIÓN B	
	T (°C)	P (mm)	T (°C)	P (mm)
ENE	3.1	58	10.2	38
FEB	4.9	46	11.5	32
MAR	7.1	29	13.1	34
ABR	8.6	50	15.0	38
MAY	12.1	58	18.2	36
JUN	16.4	39	22.0	20
JUL	19.6	28	24.9	14
AGO	19.3	24	25.4	19
SEP	16.4	39	22.8	49
OCT	11.4	56	18.4	74
NOV	7.0	58	13.9	54
DIC	4.3	70	11.2	50

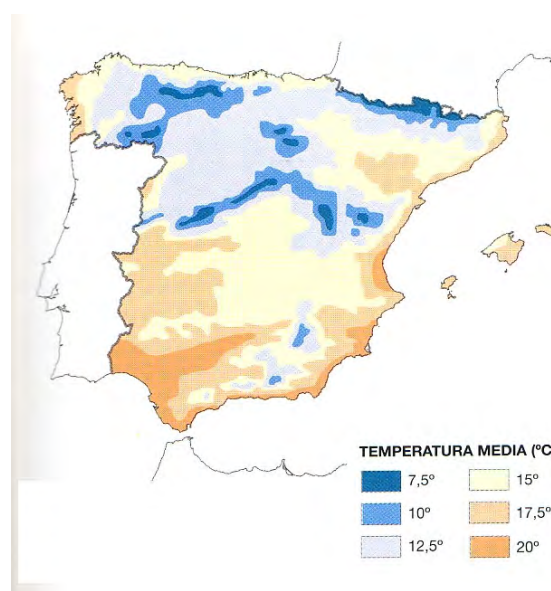
Font/Fuente: www.inm.es.

DOCUMENT 2 / DOCUMENTO 2

MAPA 2A



MAPA 2B



Font/Fuente: Muñoz Delgado Mª C. (2001): Geografía 2º Bachillerato, Anaya, Madrid.

PROVES D'ACCÉS A FACULTATS, ESCOLES TÈCNIQUES SUPERIORS I COL·LEGIS UNIVERSITARIS
PRUEBAS DE ACCESO A FACULTADES, ESCUELAS TÉCNICAS SUPERIORES Y COLEGIOS UNIVERSITARIOS

CONVOCATÒRIA DE JUNY 2007

CONVOCATORIA DE JUNIO 2007

MODALITAT DEL BATXILLERAT (LOGSE):
MODALIDAD DEL BACHILLERATO (LOGSE):

d'Humanitats i Ciències Socials
de Humanidades y Ciencias Sociales

IMPORTANT / IMPORTANTE

2n Exercici 2º Ejercicio	GEOGRAFIA GEOGRAFÍA	Obligatòria en la via de Ciències Socials i optativa en la d'Humanitats Obligatoria en la vía de Ciencias Sociales y optativa en la de Humanidades	90 minuts 90 minutos
Barem: / Baremo: _____			
Pregunta 1ª-2 punts; pregunta 2ª-2'5 punts; pregunta 3ª-3 punts; pregunta 4ª-2'5 punts			
<i>Pregunta 1ª-2 puntos; pregunta 2ª-2'5 puntos; pregunta 3ª-3 puntos; pregunta 4ª-2'5 puntos</i>			

EJERCICIO 2

1. A partir de los datos del documento 1 y sobre el mapa anexo, construya un mapa de coropletas con los datos del porcentaje de Regadío sobre la Superficie Agrícola Utilizada (SAU).
2. Apoyándose en el mapa construido y en el gráfico del documento 2, caracterice el Paisaje Agrario Mediterráneo, y sus variedades regionales, atendiendo a su estructura agraria, agricultura y ganadería.
3. Con los datos de la tabla presente en el documento 3, calcule los porcentajes que las superficies de las pequeñas y grandes explotaciones suponen en el total español en cada uno de los años, y representélos en una gráfica, en la cuadrícula anexa. Atendiendo a los valores de la tabla, señale los principales problemas del sector agrario español.
4. Redacte un INFORME sobre las principales líneas de actuación que se manejan para la dinamización y ordenación del espacio rural en España.

EXERCICI 2

1. A partir de les dades del document 1 i sobre el mapa annex, construïu un mapa de coropletes amb les dades del percentatge de regadiu sobre la superfície agrícola utilitzada (SAU).
2. Amb el suport del mapa construït i el gràfic del document 2, caracteritzeu el paisatge agrari mediterrani, i les seues varietats regionals, atenent la seua estructura agrària, agricultura i ramaderia.
3. Amb les dades de la taula del document 3, calculeu els percentatges que les superfícies de les xicotetes i grans explotacions suposen en el total espanyol en cada un dels anys, i representeu-los en una gràfica, en la quadrícula annexa. Atenent els valors de la taula, assenyaleu els principals problemes del sector agrari espanyol.
4. Redacteu un INFORME sobre les principals línies d'actuació que es manegen per a la dinamització i ordenació de l'espai rural a Espanya.

PROVES D'ACCÉS A FACULTATS, ESCOLES TÈCNiques SUPERIORS I COL·LEGIS UNIVERSITARIS
PRUEBAS DE ACCESO A FACULTADES, ESCUELAS TÉCNICAS SUPERIORES Y COLEGIOS UNIVERSITARIOS

CONVOCATÒRIA DE JUNY 2007

CONVOCATORIA DE JUNIO 2007

MODALITAT DEL BATXILLERAT (LOGSE):
MODALIDAD DEL BACHILLERATO (LOGSE):

d'Humanitats i Ciències Socials
de Humanidades y Ciencias Sociales

IMPORTANT / IMPORTANTE

2n Exercici 2º Ejercicio	GEOGRAFIA GEOGRAFÍA	Obligatòria en la via de Ciències Socials i optativa en la d'Humanitats Obligatoria en la vía de Ciencias Sociales y optativa en la de Humanidades	90 minuts 90 minutos
------------------------------------	-------------------------------	--	--------------------------------

Barem: / Baremo:

DOCUMENT 1 / DOCUMENTO 1

Distribució de la superfície de regadiu/*Distribución de la superficie de regadío*

Comunidades Autónomas	TOTAL SAU (1) (hectáreas)	TOTAL REGADÍO (hectáreas)	% REG/SAU
Andalucía	4.854.912	944.435	19,45
Aragón	2.472.792	445.179	18,00
Asturias (Principado de)	339.609	5.773	1,70
Balears (Illes).....	180.822	16.642	9,20
Canarias	78.150	23.187	29,67
Cantabria.....	160.697	1.357	0,84
Castilla-La Mancha.....	4.722.368	489.808	10,37
Castilla y León.....	5.178.177	524.199	10,12
Cataluña	1.179.556	271.126	22,99
Comunidad Valenciana	822.894	354.260	43,05
Extremadura	2.224.941	206.973	9,30
Galicia	866.282	82.304	9,50
Madrid (Comunidad de)	347.454	27.702	7,97
Murcia (Región de)	622.725	193.907	31,14
Navarra (C. Foral de).....	615.947	87.784	14,25
País Vasco.....	240.792	10.174	4,23
Rioja (La)	273.973	95.495	34,86
ESPAÑA	25.182.091	3.780.305	15,01

(1) Comprende las tierras de cultivos, incluidos los barbechos y los prados y pastizales.

Font/Fuente: Ministerio de Agricultura y Pesca, (2002).

PROVES D'ACCÉS A FACULTATS, ESCOLES TÈCNIQUES SUPERIORS I COL·LEGIS UNIVERSITARIS
PRUEBAS DE ACCESO A FACULTADES, ESCUELAS TÉCNICAS SUPERIORES Y COLEGIOS UNIVERSITARIOS

CONVOCATÒRIA DE JUNY 2007

CONVOCATORIA DE JUNIO 2007

MODALITAT DEL BATXILLERAT (LOGSE):
MODALIDAD DEL BACHILLERATO (LOGSE):

d'Humanitats i Ciències Socials
de Humanidades y Ciencias Sociales

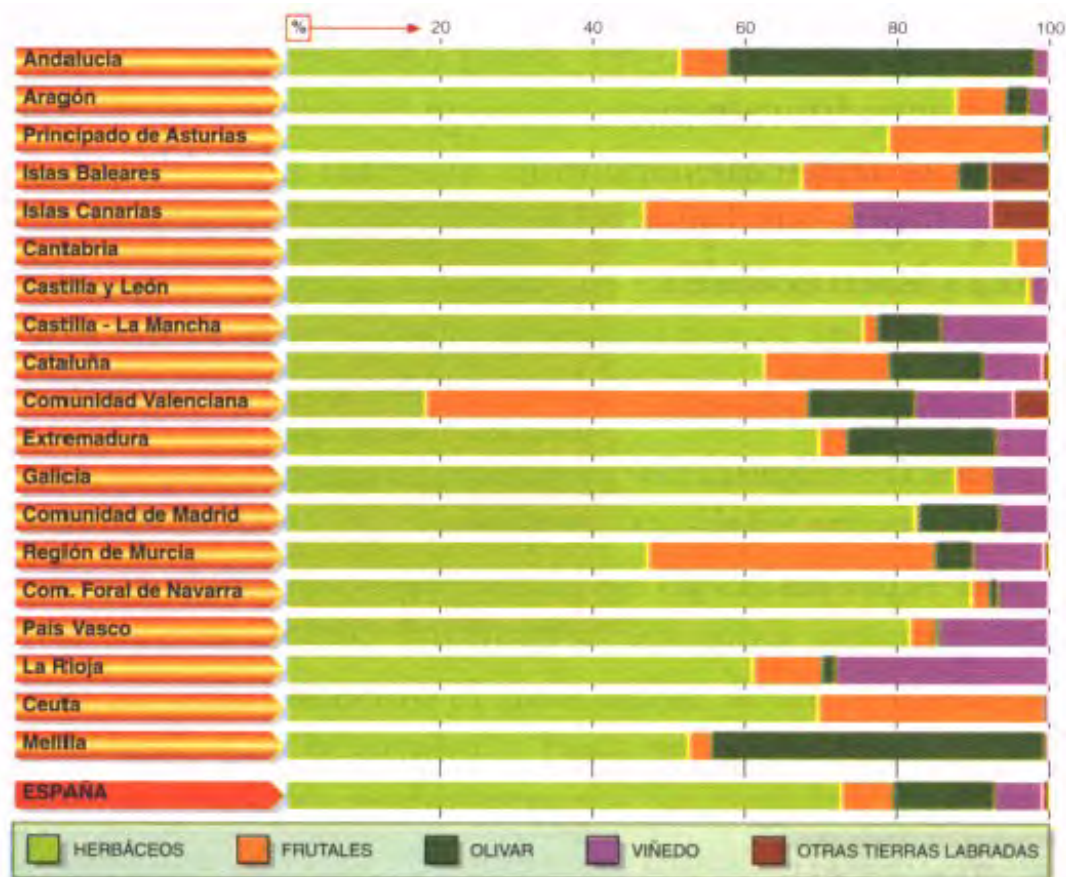
IMPORTANT / IMPORTANTE

2n Exercici 2º Ejercicio	GEOGRAFIA GEOGRAFÍA	Obligatòria en la via de Ciències Socials i optativa en la d'Humanitats Obligatoria en la vía de Ciencias Sociales y optativa en la de Humanidades	90 minuts 90 minutos
-----------------------------	------------------------	---	-------------------------

Barem: / Baremo: _____

DOCUMENT 2 / DOCUMENTO 2

Distribució de les terres llaurades per comunitats autònomes/Distribución de las tierras labradas por Comunidades Autónomas



Font/Fuente: MAPA, Censo agrario, 1999. En VVAA (2003): Geografía 2º Bachillerato, Ecir Editorial, Valencia.

DOCUMENT 3 / DOCUMENTO 3

Resultats de l'enquesta sobre l'estructura de les explotacions agrícoles/Resultados de la encuesta sobre la estructura de las explotaciones agrícolas (2005)

	1990	1993	1995	1997	2000	2003
Tamaño (miles de ha).						
Superficie < 5 ha	971	804	706	647	740	626
Superficie > = 50 ha	86	92	97	98	99	99
Total explotaciones	1593	1383	1277	1208	1287	1140
Mano de obra (miles de personas)	2707.3	2429.9	2384.7	2328.35	2253.7	2128.5
Índice de precios percibidos	5	9	9	93.9	85.8	82.9

Font/Fuente: Encuesta sobre la Estructura de Explotaciones agrícolas. Eurostat (2005).

PROVES D'ACCÉS A FACULTATS, ESCOLES TÈCNIQUES SUPERIORS I COL·LEGIS UNIVERSITARIS
PRUEBAS DE ACCESO A FACULTADES, ESCUELAS TÉCNICAS SUPERIORES Y COLEGIOS UNIVERSITARIOS

CONVOCATÒRIA DE JUNY 2007

CONVOCATORIA DE JUNIO 2007

MODALITAT DEL BATXILLERAT (LOGSE):
MODALIDAD DEL BACHILLERATO (LOGSE):


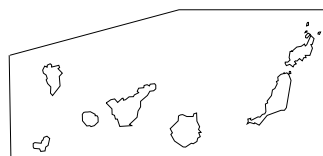
d'Humanitats i Ciències Socials
de Humanidades y Ciencias Sociales

IMPORTANT / IMPORTANTE

2n Exercici 2º Ejercicio	GEOGRAFIA GEOGRAFÍA	Obligatòria en la via de Ciències Socials i optativa en la d'Humanitats Obligatoria en la vía de Ciencias Sociales y optativa en la de Humanidades	90 minuts 90 minutos
------------------------------------	-------------------------------	--	--------------------------------

Etiqueta de l'estudiant / Etiqueta del estudiante

ANNEX/ ANEXO



PROVES D'ACCÉS A FACULTATS, ESCOLES TÈCNiques SUPERIORS I COL·LEGIS UNIVERSITARIS
PRUEBAS DE ACCESO A FACULTADES, ESCUELAS TÉCNICAS SUPERIORES Y COLEGIOS UNIVERSITARIOS

CONVOCATÒRIA DE JUNY 2007

CONVOCATORIA DE JUNIO 2007

MODALITAT DEL BATXILLERAT (LOGSE): d'Humanitats i Ciències Socials
MODALIDAD DEL BACHILLERATO (LOGSE): de Humanidades y Ciencias Sociales

IMPORTANT / IMPORTANTE

2n Exercici 2º Ejercicio	GEOGRAFIA GEOGRAFÍA	Obligatòria en la via de Ciències Socials i optativa en la d'Humanitats Obligatoria en la vía de Ciencias Sociales y optativa en la de Humanidades	90 minuts 90 minutos
------------------------------------	-------------------------------	--	--------------------------------

Etiqueta de l'estudiant / Etiqueta del estudiante

ANNEX/ ANEXO

