

PROVES D'ACCÉS A FACULTATS, ESCOLES TÈCNIQUES SUPERIORS I COL·LEGIS UNIVERSITARIS
PRUEBAS DE ACCESO A FACULTADES, ESCUELAS TÉCNICAS SUPERIORES Y COLEGIOS UNIVERSITARIOSCONVOCATÒRIA DE **JUNY 2009**CONVOCATORIA DE **JUNIO 2009**MODALITAT DEL BATXILLERAT (LOGSE): **d'Humanitats i Ciències Socials**
MODALIDAD DEL BACHILLERATO (LOGSE): de Humanidades y Ciencias Sociales**IMPORTANT / IMPORTANTE**

2n Exercici 2º Ejercicio	GEOGRAFIA GEOGRAFÍA	Obligatòria en la via de Ciències Socials i optativa en la d'Humanitats Obligatoria en la vía de Ciencias Sociales y optativa en la de Humanidades	90 minuts 90 minutos
Barem: / Baremo: _____			
Pregunta 1ª-2'5 punts; pregunta 2ª-2'5 punts; pregunta 3ª-2'5 punts; pregunta 4ª-2'5 punts			
<i>Pregunta 1ª-2'5 puntos; pregunta 2ª-2'5 puntos; pregunta 3ª-2'5 puntos; pregunta 4ª-2'5 puntos</i>			

EJERCICIO 1

1. Con los datos del Documento 1, realice en el papel milimetrado un gráfico sobre la evolución del empleo español en los distintos sectores económicos.
2. Observando el gráfico resultante, describa la evolución del empleo por sectores en España y señale las causas que explican la evolución del sector terciario.
3. De acuerdo con el mapa del Documento 2, explique las causas de las grandes desigualdades territoriales en el empleo en el sector primario.
4. Atendiendo a los documentos y respuestas anteriores y a sus conocimientos, realice un **INFORME** sobre la **evolución del empleo en el sector primario** atendiendo a causas demográficas, económicas y tecnológicas.

EXERCICI 1

1. Amb les dades del Document 1, realitzeu en el paper mil·limetrat un gràfic sobre l'evolució de l'ocupació espanyola en els diferents sectors econòmics.
2. Observant el gràfic resultant, descriviu l'evolució de l'ocupació per sectors a Espanya i assenyalau les causes que expliquen l'evolució del sector terciari.
3. D'acord amb el mapa del Document 2, expliqueu les causes de les grans desigualtats territorials en l'ocupació en el sector primari.
4. Atenent als documents i respostes anteriors i als seus coneixements, realitzeu un **INFORME** sobre l'**evolució de l'ocupació en el sector primari** atenent les causes demogràfiques, econòmiques i tecnològiques.

PROVES D'ACCÉS A FACULTATS, ESCOLES TÈCNIQUES SUPERIORS I COL·LEGIS UNIVERSITARIS
PRUEBAS DE ACCESO A FACULTADES, ESCUELAS TÉCNICAS SUPERIORES Y COLEGIOS UNIVERSITARIOS
CONVOCATÒRIA DE JUNY 2009
CONVOCATORIA DE JUNIO 2009
MODALITAT DEL BATXILLERAT (LOGSE):
d'Humanitats i Ciències Socials

MODALIDAD DEL BACHILLERATO (LOGSE):

de Humanidades y Ciencias Sociales

IMPORTANT / IMPORTANTE

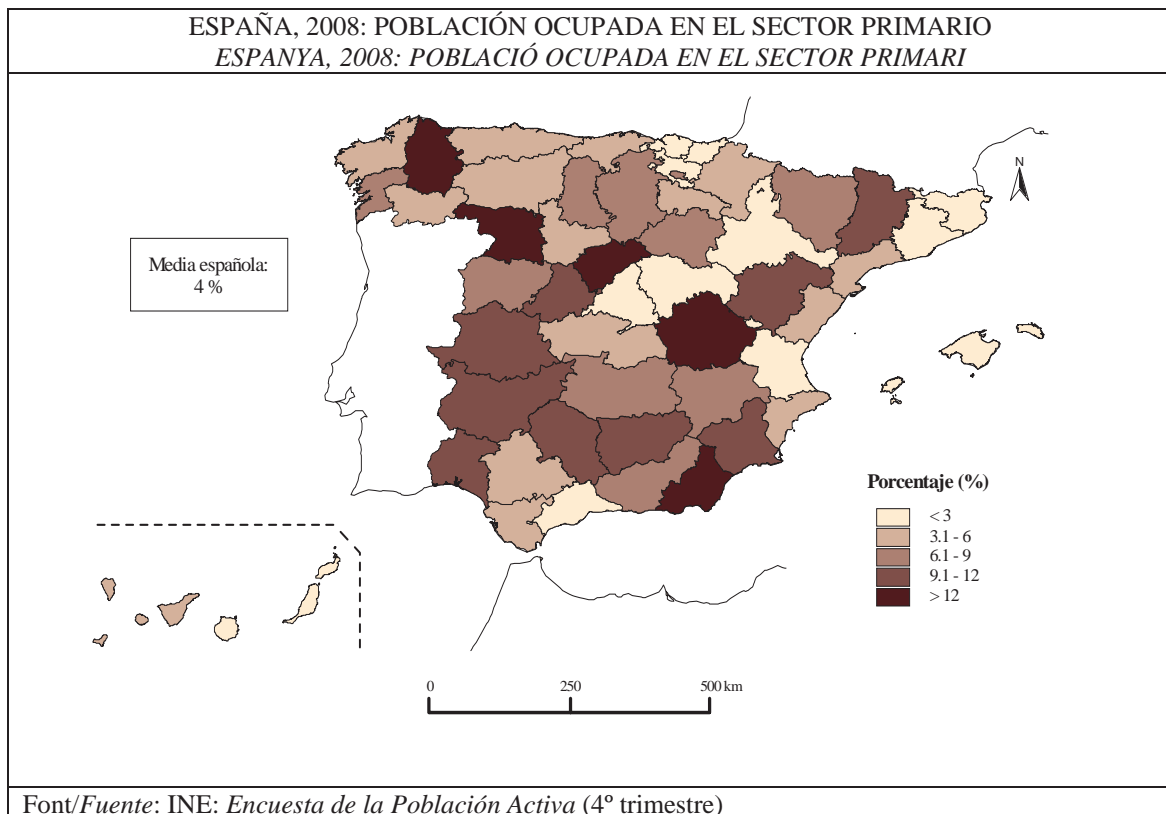
2n Exercici 2º Ejercicio	GEOGRAFIA GEOGRAFÍA	Obligatòria en la via de Ciències Socials i optativa en la d'Humanitats Obligatoria en la vía de Ciencias Sociales y optativa en la de Humanidades	90 minuts 90 minutos
------------------------------------	-------------------------------	--	--------------------------------

Barem: / Baremo: _____

DOCUMENT 1 / DOCUMENTO 1
ESpanyA, 1976-2008: EVOLUCIÓ DE LA POBLACIÓ OCUPADA PER SECTORS ECONÒMICOS
ESPAÑA, 1976-2008: EVOLUCIÓN DE LA POBLACIÓN OCUPADA POR SECTORES ECONÓMICOS

Año	Primario	Industria Construcción	Servicios
1976	21'2	37'4	41'3
1984	18'0	32'8	49'2
1992	9'7	32'0	58'2
2000	6'6	31'3	62'1
2008	4'0	26'3	69'6

Font/Fuente: INE: Encuesta de la Población Activa (dades del 4t trimestre de l'any)

DOCUMENT 2 / DOCUMENTO 2
ESpanyA, 2008: POBLACIÓ OCUPADA EN EL SECTOR PRIMARI
ESPAÑA, 2008: POBLACIÓN OCUPADA EN EL SECTOR PRIMARI


PROVES D'ACCÉS A FACULTATS, ESCOLES TÈCNiques SUPERIORS I COL·LEGIS UNIVERSITARIS
PRUEBAS DE ACCESO A FACULTADES, ESCUELAS TÉCNICAS SUPERIORES Y COLEGIOS UNIVERSITARIOSCONVOCATÒRIA DE **JUNY 2009**CONVOCATORIA DE **JUNIO 2009**

MODALITAT DEL BATXILLERAT (LOGSE):


MODALIDAD DEL BACHILLERATO (LOGSE):

d'Humanitats i Ciències Socials

de Humanidades y Ciencias Sociales

IMPORTANT / IMPORTANTE

2n Exercici 2º Ejercicio	GEOGRAFIA GEOGRAFÍA	Obligatòria en la via de Ciències Socials i optativa en la d'Humanitats Obligatoria en la vía de Ciencias Sociales y optativa en la de Humanidades	90 minuts 90 minutos
------------------------------------	-------------------------------	--	--------------------------------

Barem: / Baremo: _____**PAPER ANNEX/ PAPEL ANEXO**

PROVES D'ACCÉS A FACULTATS, ESCOLES TÈCNIQUES SUPERIORS I COL·LEGIS UNIVERSITARIS
PRUEBAS DE ACCESO A FACULTADES, ESCUELAS TÉCNICAS SUPERIORES Y COLEGIOS UNIVERSITARIOSCONVOCATÒRIA DE **JUNY 2009**CONVOCATORIA DE **JUNIO 2009**

MODALITAT DEL BATXILLERAT (LOGSE):

d'Humanitats i Ciències Socials

MODALIDAD DEL BACHILLERATO (LOGSE):

de Humanidades y Ciencias Sociales

IMPORTANT / IMPORTANTE

2n Exercici 2º Ejercicio	GEOGRAFIA GEOGRAFÍA	Obligatòria en la via de Ciències Socials i optativa en la d'Humanitats Obligatoria en la vía de Ciencias Sociales y optativa en la de Humanidades	90 minuts 90 minutos
Barem: / Baremo: _____			
Pregunta 1ª-2'5 punts; pregunta 2ª-2'5 punts; pregunta 3ª-2'5 punts; pregunta 4ª-2'5 punts			
<i>Pregunta 1ª-2'5 puntos; pregunta 2ª-2'5 puntos; pregunta 3ª-2'5 puntos; pregunta 4ª-2'5 puntos</i>			

EJERCICIO 2

- 1.Construya un climograma, siguiendo el modelo de Gaussen, a partir de los datos del Documento 1.
- 2.Observe el diagrama resultante e indique a qué tipo de clima corresponde, señalando sus principales características climáticas.
- 3.Apoyándose en la gráfica del Documento 2, que representa el caudal de un río localizado en un clima similar al anterior, señale qué tipo de régimen fluvial presenta y cuáles son sus principales características.
- 4.Atendiendo a los documentos y respuestas anteriores y a sus conocimientos, elabore un INFORME sobre **las interrelaciones clima-régimen fluvial y sus consecuencias sobre los usos humanos del agua.**

EXERCICI 2

- 1.Construïu un climograma, seguint el model de Gaussen, a partir de les dades del Document 1.
- 2.Observeu el diagrama resultant i indiqueu a quin tipus de clima correspon, i assenyaleu les principals característiques climàtiques.
- 3.Amb el suport del gràfic del Document 2, que representa el cabal d'un riu localitzat en un clima semblant a l'anterior, assenyaleu quin tipus de règim fluvial presenta i quins són les seues principals característiques.
- 4.Atenent als documents i respostes anteriors i als seus coneixements, elaboreu un INFORME sobre **les interrelacions clima-règim fluvial i les seues conseqüències sobre els usos humans de l'aigua.**

PROVES D'ACCÉS A FACULTATS, ESCOLES TÈCNIQUES SUPERIORS I COL·LEGIS UNIVERSITARIS
PRUEBAS DE ACCESO A FACULTADES, ESCUELAS TÉCNICAS SUPERIORES Y COLEGIOS UNIVERSITARIOS
CONVOCATÒRIA DE JUNY 2009
CONVOCATORIA DE JUNIO 2009
MODALITAT DEL BATXILLERAT (LOGSE):
d'Humanitats i Ciències Socials

MODALIDAD DEL BACHILLERATO (LOGSE):

de Humanidades y Ciencias Sociales

IMPORTANT / IMPORTANTE

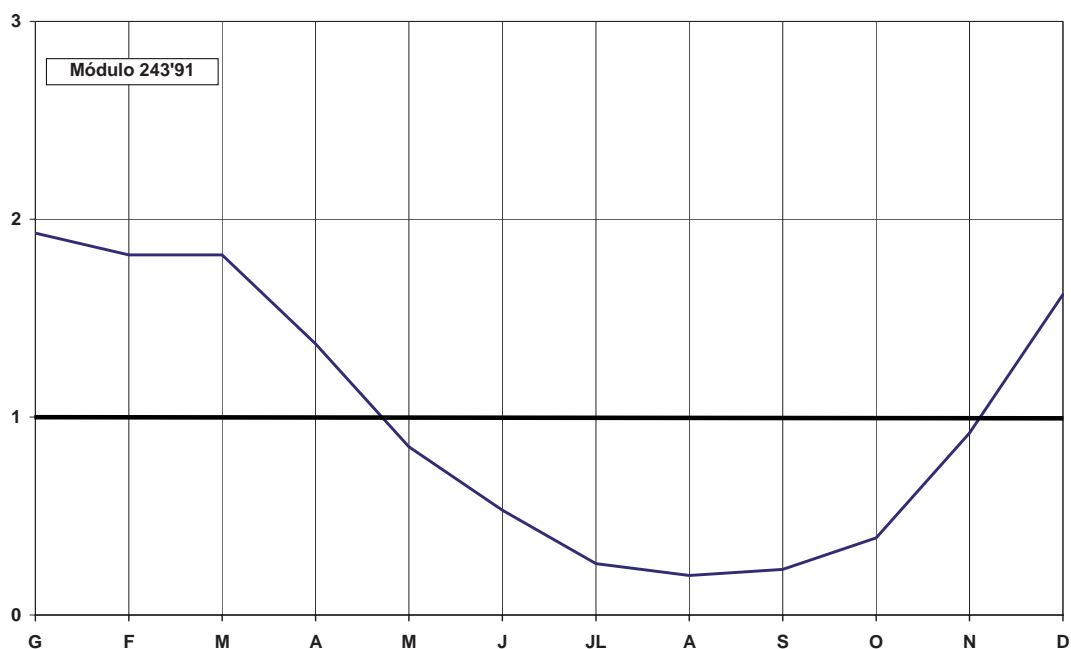
2n Exercici 2º Ejercicio	GEOGRAFIA GEOGRAFÍA	Obligatòria en la via de Ciències Socials i optativa en la d'Humanitats Obligatoria en la vía de Ciencias Sociales y optativa en la de Humanidades	90 minuts 90 minutos
------------------------------------	-------------------------------	--	--------------------------------

Barem: / Baremo: _____

DOCUMENT 1 / DOCUMENTO 1

G	F	M	A	M	J	JL	A	S	O	N	D	Any
9'4	9'7	11'1	12'2	14'2	17	19'4	19'5	18'1	15'2	11'9	10	13'9 °C
110'4	89'4	77'1	80'3	86'4	56'3	39'1	58'7	77'3	101'3	122	117'7	1.016 mm

Font/Fuente: AEMET.

DOCUMENT 2 / DOCUMENTO 2


Font/Fuente: Franco Aliaga, T. "Geografía Física de España", 1995.

PROVES D'ACCÉS A FACULTATS, ESCOLES TÈCNiques SUPERIORS I COL·LEGIS UNIVERSITARIS
PRUEBAS DE ACCESO A FACULTADES, ESCUELAS TÉCNICAS SUPERIORES Y COLEGIOS UNIVERSITARIOSCONVOCATÒRIA DE **JUNY 2009**CONVOCATORIA DE **JUNIO 2009**

MODALITAT DEL BATXILLERAT (LOGSE):

MODALIDAD DEL BACHILLERATO (LOGSE):

d'Humanitats i Ciències Socials

de Humanidades y Ciencias Sociales

IMPORTANT / IMPORTANTE

2n Exercici 2º Ejercicio	GEOGRAFIA GEOGRAFÍA	Obligatòria en la via de Ciències Socials i optativa en la d'Humanitats Obligatoria en la vía de Ciencias Sociales y optativa en la de Humanidades	90 minuts 90 minutos
------------------------------------	-------------------------------	--	--------------------------------

Barem: / Baremo: _____**PAPER ANNEX/ PAPEL ANEXO**