



UNIVERSIDAD
POLITECNICA
DE VALENCIA



UNIVERSITAT
JAUME I



UNIVERSITAT
DE VALÈNCIA



Miguel Hernández



Universitat d'Alacant
Universidad de Alicante

PRUEBAS DE ACCESO A LA UNIVERSIDAD PARA MAYORES DE 25 AÑOS – MAYO 2005
PROVES D'ACCES A LA UNIVERSITAT PER A MAJORS DE 25 ANYS - MAIG 2005

EJERCICIO/EXERCICI DE: DIBUJO TÉCNICO / DIBUIX TÈCNIC

OBSERVACIONES/OBSERVACIONS:

El alumno debe realizar los tres ejercicios en una hora.


Los ejercicios se realizarán sobre los enunciados, sin borrar las construcciones auxiliares.

L'alumne ha de realitzar els tres exercicis en una hora.

Els exercicis es realitzaran sobre els enunciats, sense esborrar les construccions auxiliars.

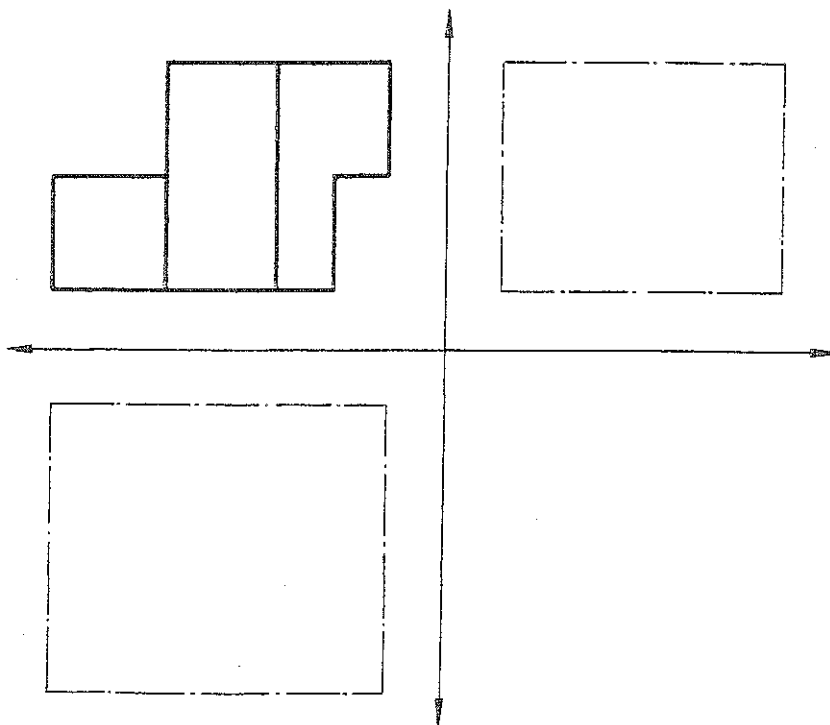
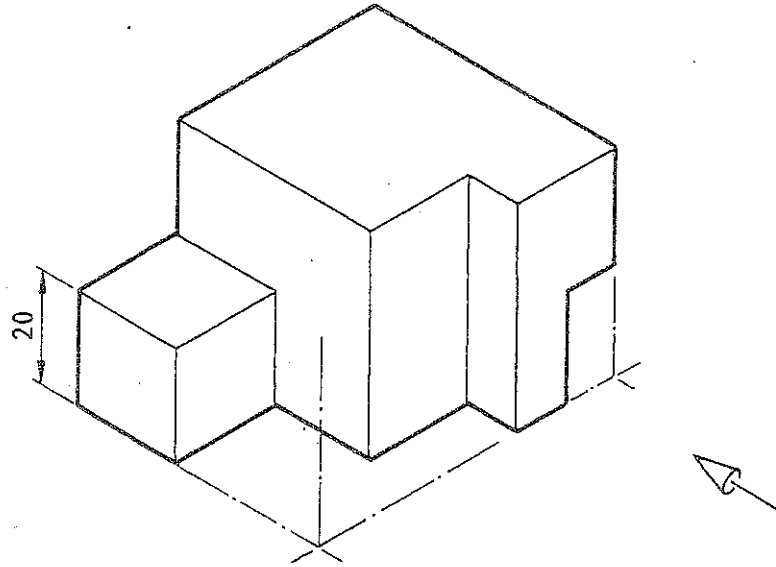
1. Dibuje un pentágono regular inscrito en la circunferencia que pasa por los puntos A, B y C. (3 Puntos)

1. Dibuixeu un pentàgon regular inscrit en la circumferència que passa pels punts A, B i C. (3 Punts)



2. Dado el alzado, dibuje la planta y el perfil izquierdo del objeto que se da en el dibujo isométrico. Sistema del primer diedro. Las medidas se tomarán directamente de la figura. Indique a qué escala está dibujada la figura. Realice la escala gráfica. (4 Puntos)

2. Donat l'alçat, dibuixeu la planta i el perfil esquerre de l'objecte que es dona en el dibuix isomètric. Sistema del primer diedre. Les mides es prendran directament de la figura. Indiqueu a quina escala està dibuixada la figura. Realitzeu l'escala gràfica. (4 Punts)



3. Dado un objeto por sus proyecciones alzado y planta a escala 1:2, realice la acotación completa del objeto de acuerdo con las normas vigentes, tomando las medidas de las proyecciones. (3 Puntos)

3. Donat un objecte per les seves projeccions alçat i planta a escala 1:2, realitzeu l'acotació completa de l'objecte d'acord amb les normes vigents, prenent les mides de les projeccions. (3 Punts)

