

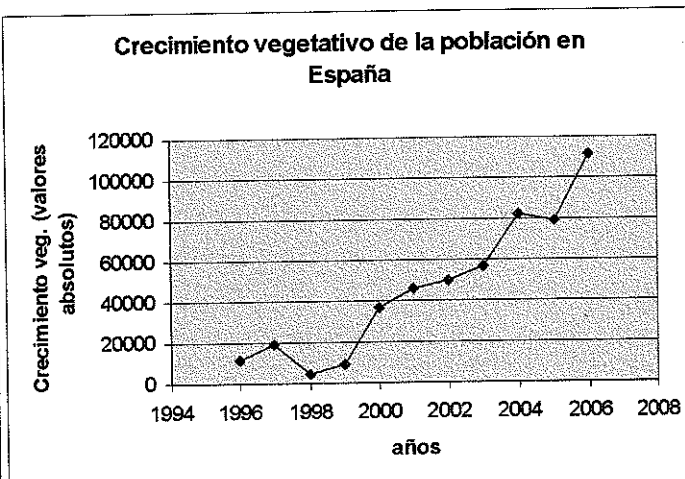
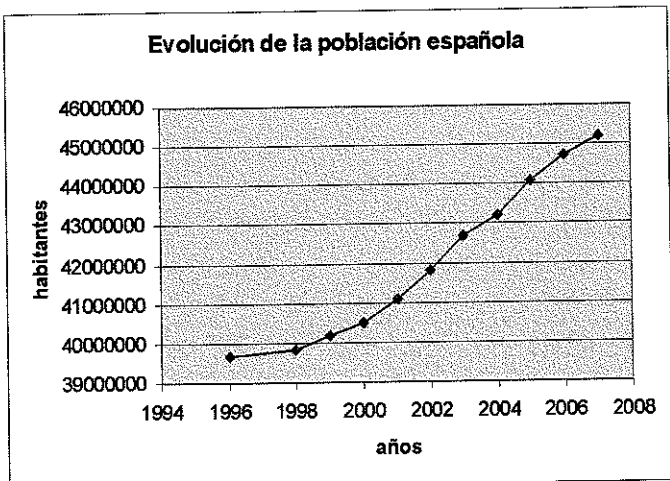
**PRUEBAS DE ACCESO A LA UNIVERSIDAD PARA MAYORES DE 25 AÑOS – ABRIL/MAYO 2008**  
**PROVES D'ACCÉS A LA UNIVERSITAT PER A MAJORS DE 25 ANYS – ABRIL/MAIG 2008**

**EJERCICIO/EXERCICI DE: GEOGRAFIA**

**OBSERVACIONES/OBSERVACIONS:** *Todas las preguntas valen lo mismo / totes les preguntes valen el mateix*

1. En el documento 1 se muestra de forma comparada la evolución del total de la población española y la evolución del crecimiento vegetativo. A partir de estos datos explica qué influencia crees que ha tenido el crecimiento vegetativo en el crecimiento de la población
2. En el documento 2 se muestran de forma comparada las pirámides de población de españoles y extranjeros en 2000 y 2006. Explica las principales diferencias que se observan entre los dos años considerados.
3. Explica qué factores pueden explicar la sustancial reducción registrada en la proporción de extranjeros mayores de 65 años (sobre todo varones) .
4. Argumenta qué factores han determinado la evolución de la dinámica inmigratoria desde mediados de los noventa y la actualidad.

1. Al document 1 es mostra de forma comparada l'evolució del total de població espanyola i l'evolució del creixement vegetatiu. A partir d'aquestes dades explica quina influència penses que ha tingut el creixement vegetatiu en el creixement de la població.
2. Al document 2 es postren de forma comparada les piràmides de població d'espanyols i estrangers en 2000 i 2006. Explica les principals diferències que s'observen entre els dos anys considerats.
3. Explica quins factors poden explicar la substancial reducció registrada en la proporció d'estrangers majors de 65 anys (sobretot homes).
4. Argumenta què factors han determinat l'evolució de la dinàmica immigratòria des de mitjans dels anys noranta i l'actualitat.

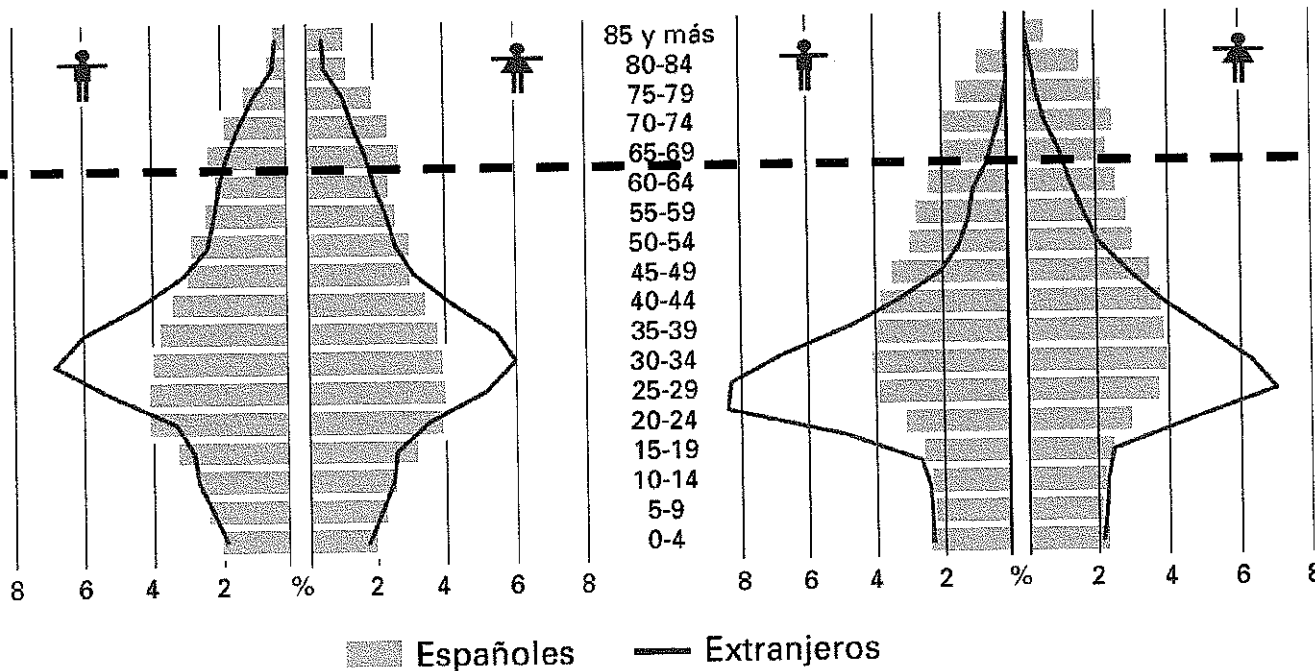


Fuente/ Font : INE (elaboración propia, elaboració pròpia).

## Pirámide de población española y extranjera

1 de enero de 2000

1 de enero de 2006



Fuente/ Font : INE