



Nombre de la Materia

Geografía

Tipo de examen:

Debe responder a las preguntas utilizando como máximo el espacio en blanco que sigue a cada enunciado.

Sistema de evaluación:

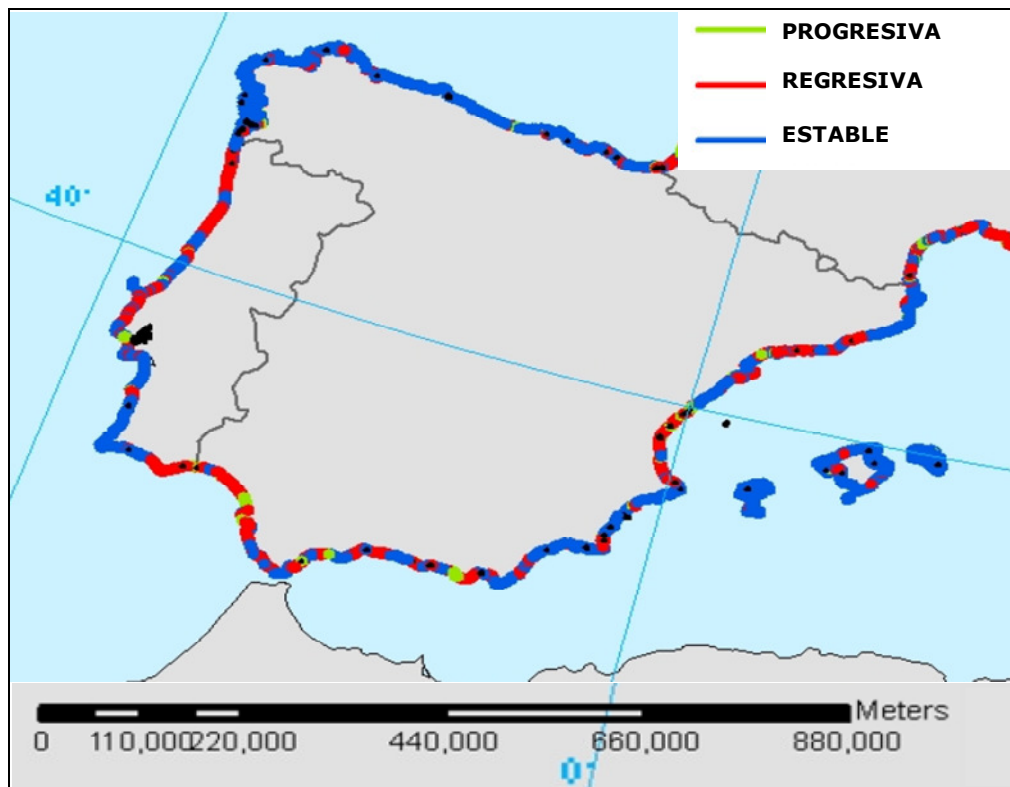
- Cada pregunta tiene un valor de 2'5 puntos.
- En las respuestas se valorarán los siguientes aspectos:
 - a. Capacidad de sistematización y correcta redacción de las ideas (*hasta 1 pto.*).
 - b. Uso adecuado de los conceptos (*hasta 0'75 puntos*).
 - c. Adecuación a los contenidos incluidos en el programa oficial de la prueba de acceso (*hasta 0'75 puntos*).

Pregunta 1:


De acuerdo con el mapa 1, comente las diferencias de comportamiento de la línea de costa española respecto del proceso erosivo.

Relacione esta información con los posibles efectos (naturales y para la ocupación del suelo) derivados del cambio climático.

Mapa 1: Dinámica costera respecto de la Erosión (EUROSION Database).



Fte.: Iglesias-Campos, A. (2009): *Progresos de la GIZC en Europa.*



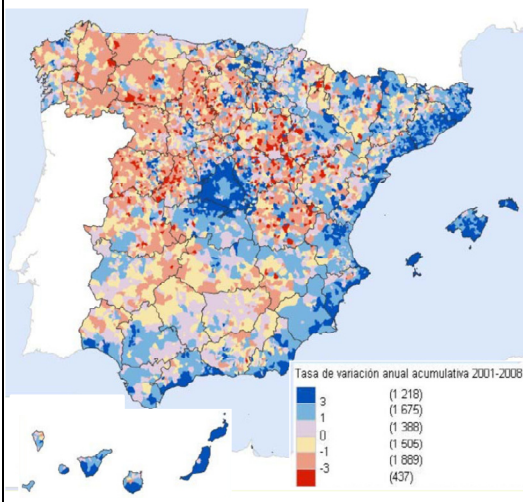


Pregunta 2:

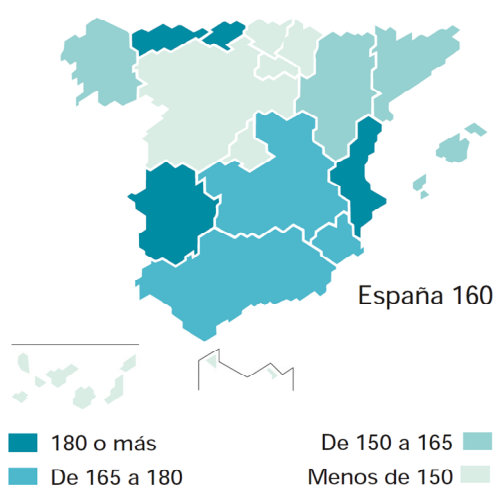
Centrándonos en el caso de la costa valenciana (regresiva en su mitad norte de acuerdo con el anterior mapa 1), y de acuerdo con los mapas 2.1 (de evolución de la población) y 2.2 de consumo de agua por habitante y día, comente:

¿Hasta qué punto resulta sostenible el actual modelo de ocupación intensiva del litoral?

**Mapa 2.1: Evolución de la población de 2001 a 2008
(Tasa de Variación Anual Acumulativa)**



Mapa 2.2: Consumo medio de agua de los hogares en 2006. (Litros/habitante/día)



Fte.: INE, *Censo y Padrón Municipal de Habitantes*

Fte.: INE, *"España en cifras, 2009"*





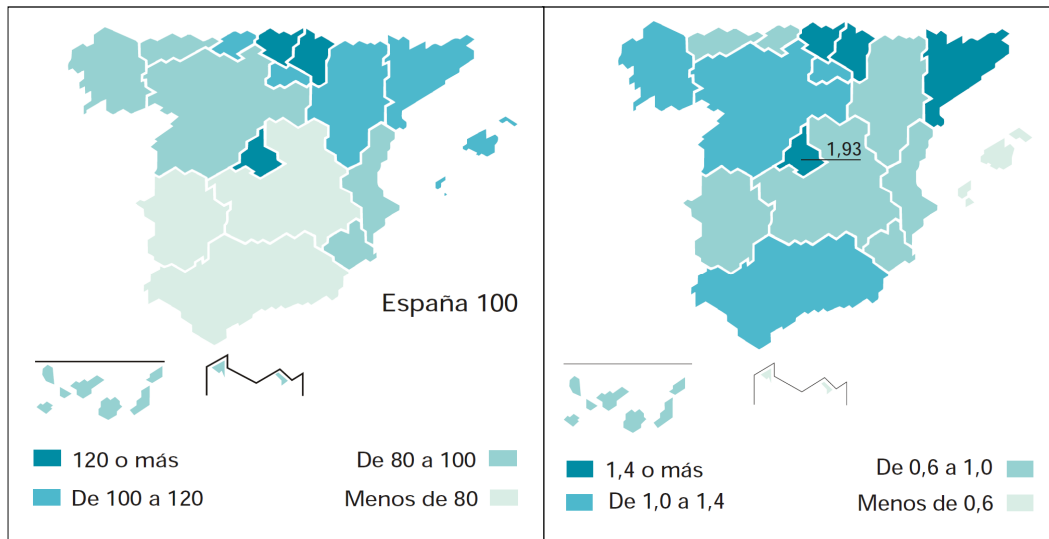
Pregunta 3:

De acuerdo con el mapa 3.1, comente e interprete las diferencias regionales respecto del PIB/cápita


De acuerdo con el mapa 3.2, ¿cree que existe relación entre el comportamiento regional que muestra el mapa 3.1 con el gasto regional en I+D? Razone su respuesta.

Mapa 3.1: PIB per cápita. 2008

Mapa 3.2: Gasto interno en I+D. 2007 (% sobre PIB regional)



Fte.: INE, "España en cifras, 2009".

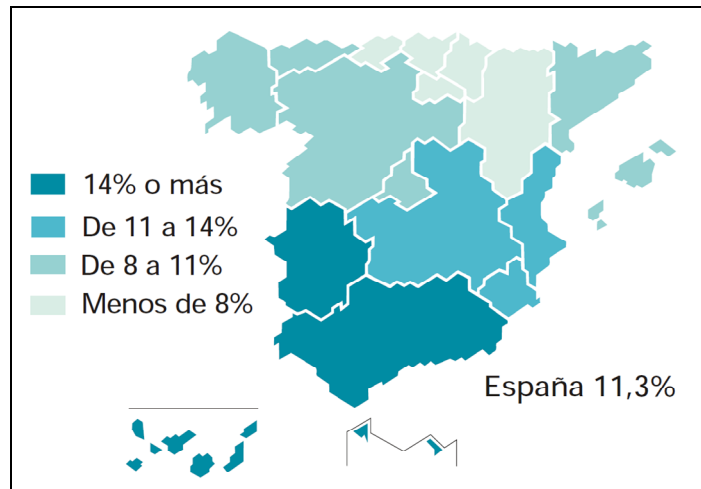


Pregunta 4:

De acuerdo con el mapa 4, comente e interprete las diferencias regionales respecto de la Tasa de Paro.

¿Cree que existe relación o coincidencia entre este comportamiento y la diferenciación regional que ha comentado en la pregunta anterior número 3?

Mapa 4: Distribución Regional de la Tasa de paro en 2008



Fte.: INE, "España en Cifras, 2009", p. 26.

