

 03100446	 Septiembre - 2011	Dibujo Técnico II (F.E.)	
		PRUEBA DE ACCESO A LA UNIVERSIDAD	
			MODELO 20
			Hoja: 1 de 2

**DIB-20**

**Elija solamente una de las dos opciones**

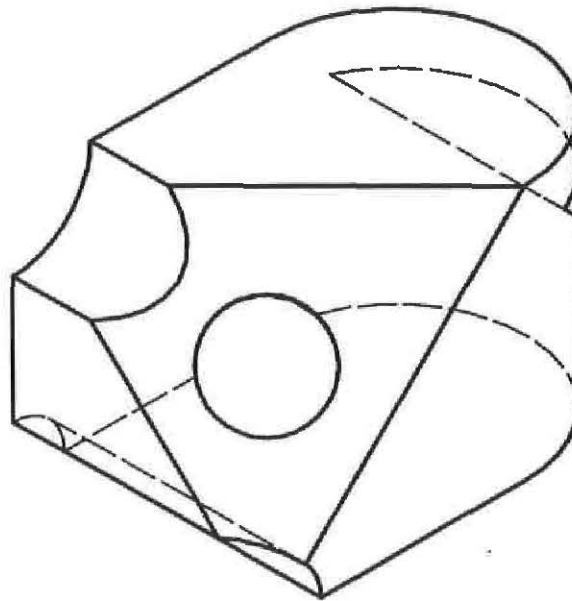
**OPCIÓN A:**

- 1) Conteste breve y concisamente a una de las dos preguntas siguientes:
- 1.A) Transformaciones isométricas, isomórficas y anamórficas. Ejemplos.
  - 1.B) Concepto de inversión.



**(Valor, 3 puntos)**

- 2) Dada la pieza representada en la figura dibujar, a lápiz y a la escala más apropiada al papel disponible, las seis vistas de la misma en sistema diédrico europeo:

**(Valor, 7 puntos)**



Escala 1:1

 03100446	 Septiembre - 2011	Dibujo Técnico II (F.E.)	
		PRUEBA DE ACCESO A LA UNIVERSIDAD	
			MODELO 20
			Hoja: 2 de 2

DIB-20

**OPCIÓN B:**

1) Conteste breve y concisamente a una de las dos preguntas siguientes:

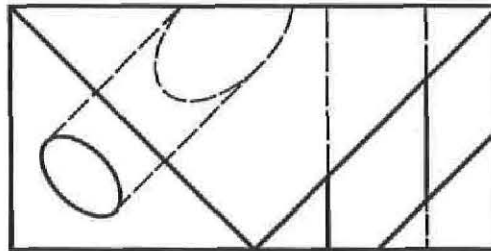
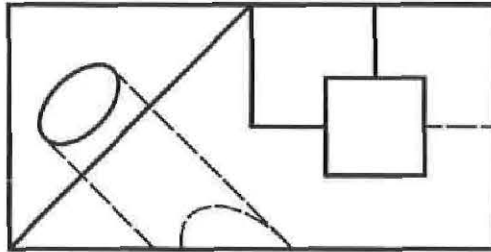
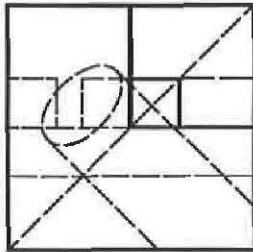
1.A) Perspectiva axonométrica ortogonal. Ejemplo práctico.

1.B) Generación de una parábola. Ejemplo.

**(Valor, 3 puntos)**

2) Dada la pieza representada en la figura en sistema diédrico europeo, dibujar, a lápiz y a la escala más apropiada al papel disponible, la perspectiva axonométrica isométrica de la misma. No es necesario tener en cuenta el coeficiente corrector 0.816.

**(Valor, 7 puntos)**



Escala 1:2